

かんがえる 力が みにつく さんすう もんだい
1ねん

___ がつ ___ にち

13 たしざん

- 1 おなじ どうぶつは おなじ かずを かくして あります。
□に あう かずをかきましょう。



$$+ 3 = 9$$




$$+ 4 = \square$$




$$+ 9 = 17$$




$$+ 8 = \square$$




$$+ 2 = 12$$



$$+ 5 = \square$$




$$+ 9 = \square$$





$$+ 3 = 8$$


13 たしざん


- 1 おなじ どうぶつは おなじ かずを かくして あります。
□に あう かずをかきましょう。


 $+ 3 = 9$


 $+ 4 = \square$


 $+ 9 = 17$

 $+ 8 = 16$

 $+ 2 = 12$

 $+ 5 = 15$

 $+ 9 = 14$

 $+ 3 = 8$