

3 直方体と立方体

(1) わり算と分数

基本の確かめ

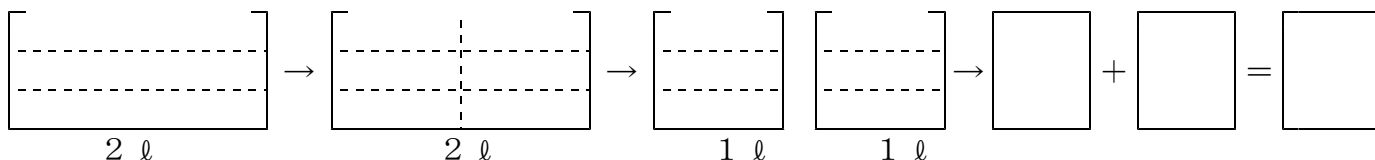
わり算の答えを分数で表す方法を考えよう。

① 2ℓの飲み物を3等分します。1つ分の量は何ℓになるでしょう。
 答えのもとめ方を考えましょう。

● 全体の量といくつ分が分かっている、1つ分の量を求めるから、わり算になるから、1つ分の量を式で求めると、

① $\square \div \square$

● この、 $2 \div 3$ の商を分数で表すと、1ℓの飲み物を3等分するから、色をぬると



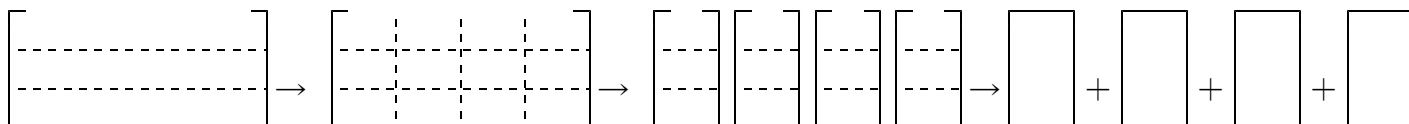
● だから、2ℓを3等分したら $2 \div 3 = \square$ ℓ 答え ℓ

整数○を、整数△でわった商は、分数で表すことができます。 $\bigcirc \div \Delta = \frac{\bigcirc}{\Delta}$

ステップ1

② 次のわり算の商を色をぬって、分数で表しましょう。

① 4ℓを3等分した1つ分の量は何ℓでしょう。



だから $\square \div \square = \frac{\square}{\square}$ 答え ℓ

ステップ2

③ 次のわり算の商を分数で表しましょう。

① $4 \div 7 = \frac{\square}{\square}$

② $9 \div 5 = \frac{\square}{\square}$

③ $13 \div 7 = \frac{\square}{\square}$

④ □にあてはまる数を書きましょう。

① $\frac{3}{7} = \square \div \square$

② $\frac{11}{3} = \square \div \square$

ステップ3

⑤ 次の数が商となる問題をつくりましょう。

① $\frac{5}{6}$

(2) 分数と倍

基本の確かめ

式と数直線をつないで考えてみよう。

- ⑥ 図のような3本のテープがあります。
白と青のテープの長さは、それぞれ
赤いテープの長さの何倍でしょう。

【テープの色と長さ】

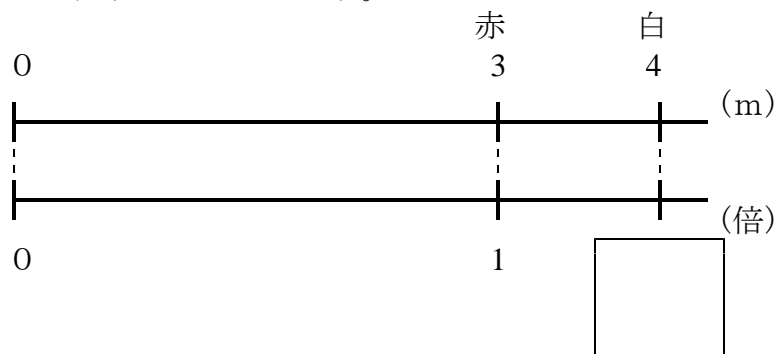
白…… 4 m 赤…… 3 m 青…… 2 m

- ① 白のテープの長さが、赤いテープの長さの何倍か求めるには、
白のテープの長さが比べる量で、赤いテープの長さがもとにする量だから、

$4 \div 3 =$ (倍) と表すことができます。

これは、数直線に表すと

答え 倍

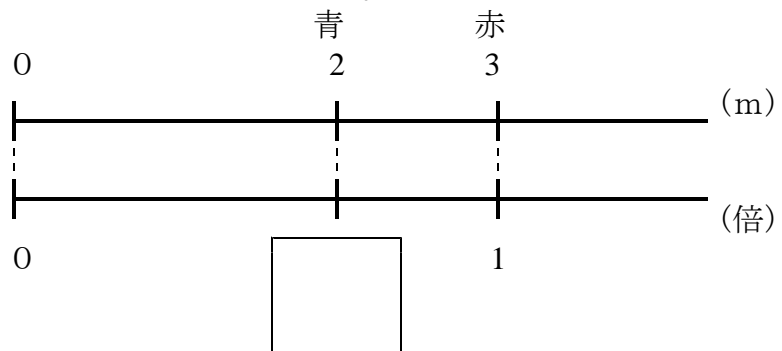


- ② 青のテープの長さが、赤いテープの長さの何倍か求めるには、
青のテープの長さが比べる量で、赤いテープの長さがもとにする量だから、

$2 \div 3 =$ (倍) と表すことができます。

これは、数直線に表すと

答え 倍



$\frac{4}{3}$ 倍や $\frac{2}{3}$ 倍のように、何倍かを表すときに、分数を用いることもあります。

ステップ2

7 11 m^2 の花だんの面積は、 8 m^2 の花だんの面積の何倍でしょう。

(式)

(答え) (倍)

8 8 m^2 の花だんの面積は、 11 m^2 の花だんの面積の何倍でしょう。

(式)

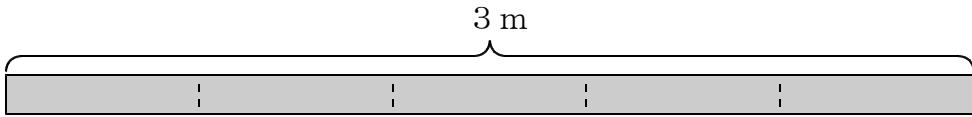
(答え) (倍)

(3) 分数と小数, 整数

基本の確かめ

分数, 小数, 整数の大きさを比べる方法を考えよう。

9 3 m のテープを5等分すると、1本分の長さは何 m になるでしょう。



① 全体の量といくつ分が分かっている、
一つ分の量が分からないから、
求める式は、

\div

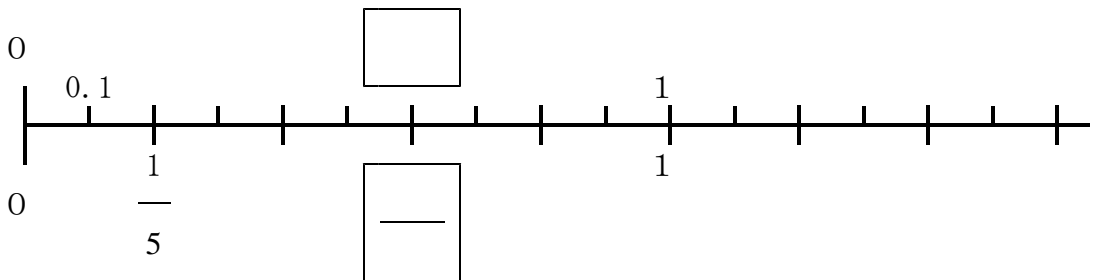
• この式の答えを
分数を使って表すと

$\frac{\quad}{\quad}$ (m)

• この式の答えを
小数を使って表すと

(m)

② $\frac{3}{5} = 0.6$ であることを数直線で確かめ、 \square に数をあてはめよう。



③ 次の3つの分数を小数で表し、数の大きい順に並べましょう。

$\frac{4}{5}$	$1\frac{3}{4}$	$\frac{4}{7}$
---------------	----------------	---------------

ア) $\frac{4}{5}$ を小数で表しましょう。

$$\frac{4}{5} = \square \div \square = \square$$

イ) $1\frac{3}{4}$ を小数で表すと、 $1\frac{3}{4}$ は1と $\frac{3}{4}$ を合わせた数だから、

$$1\frac{3}{4} = \square + \square = \square$$

ウ) $\frac{4}{7}$ を小数で表すと、 $\frac{4}{7} = 0.5714 \dots$

だから、3つの分数を、小数に直して大きい順に並べると、
, ,

分数を小数で表すには、分子を分母でわります。しかし、分数のなかには、 $\frac{4}{7}$ のように、小数できちんと表せないものもあります。

ステップ2

⑩ 次の分数を小数で表しましょう。わりきれないときは、四捨五入して $\frac{1}{10}$ の位までのがい数で表しましょう。

① $\frac{3}{10} = \square$ ② $\frac{5}{7} = \square$ ③ $\frac{2}{3} = \square$ ④ $2\frac{4}{5} = \square$

ステップ3

⑪ $1\frac{3}{4}$ と 1.7 はどちらの数の方が大きいでしょう。

が大きい。

答えのページ