

15 1000より大きい数

きほんのたしかめ

1000より大きい数のあらわしかたをかんがえよう。

1 紙を下ののようにせいりしました。□にあてはまる数をかきましょう。

100	100	100	100	100	100	100	10		
100	100	100	100	100	100	100	10		
100	100	100	100	100	100		10		
100	100	100	100	100	100		10		
100	100	100	100	100	100		10		

1000まいのたばをまるでかこむと、1000まいのたばが つ

100まいのたばが つ

10まいのたばが つ

かみの数を数字でかくと、かくくらの数字は

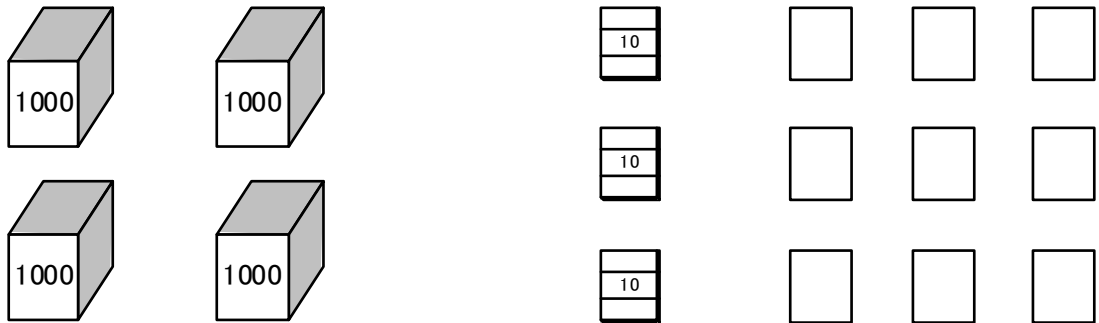
1000が <input type="text"/> 千のくらい	100が <input type="text"/> 百のくらい	10が <input type="text"/> 十のくらい	1が <input type="text"/> 一のくらい

だからかみの数は まいです。

ステップ1

1000より 大きくて とちゅうに 0がある
数の あらわしかたを かんがえよう。

3] かみの 数が なんまいに なるか かんがえて、
□に あてはまる 数を かきましょう。



かみの 数を 数字で かくと、かく くらいの 数字は

1000が <input style="width: 40px; height: 40px;" type="text"/> まで	100が <input style="width: 40px; height: 40px;" type="text"/> まで	10が <input style="width: 40px; height: 40px;" type="text"/> まで	1が <input style="width: 40px; height: 40px;" type="text"/> まで
千のくらい	百のくらい	十のくらい	一のくらい

だから かみの数は まいです。

ステップ2

4] つぎの 数を よみましょう。

- ① 1482 ② 8135 ③ 7061 ④ 9204

5 つぎの 数を 数字で かきましょう。

① 七千四百六十五

② 八千三十一

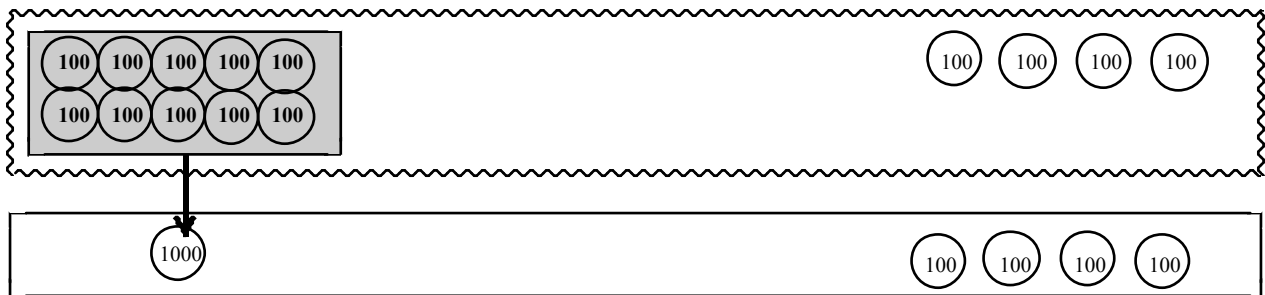
③ 千二

④ 1000 を 5 こ, 10 を 6 こ, 1 を 3 こ
あわせた 数

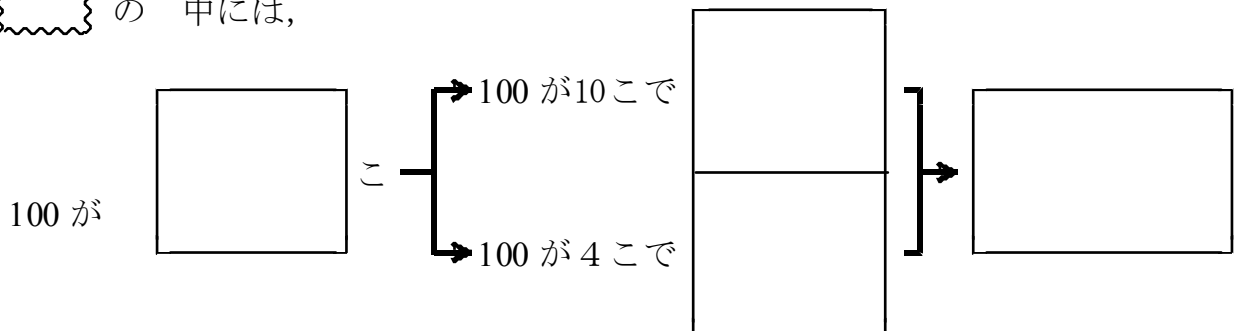
きほんのたしかめ

どんな数を いくつ あつめた数なのか かんがえよう。

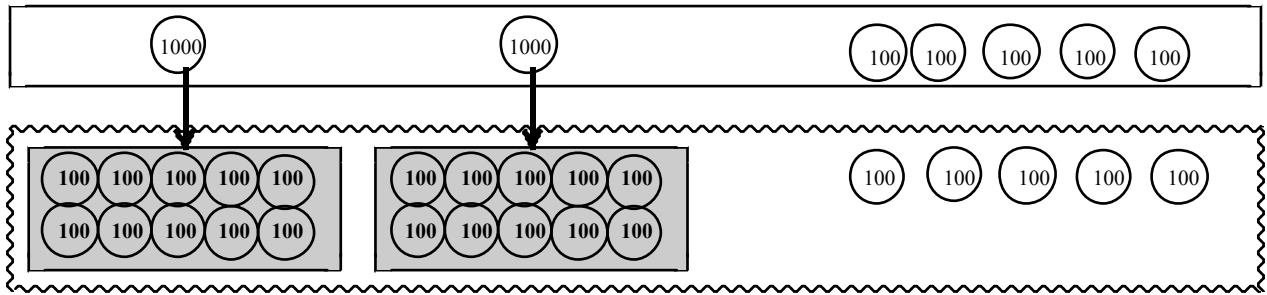
6 100 を 14 こ あつめた 数は いくつでしょう。
□に あてはまる 数を かきましょう。



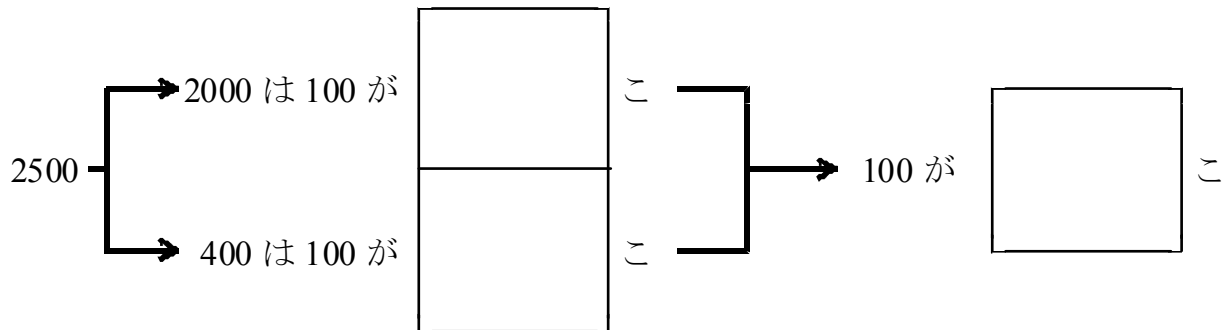
の 中には,



- 7 2500 は 100 を いくつ あつめた 数でしょう。
 □に あてはまる 数を かきましょう。



の 中には,

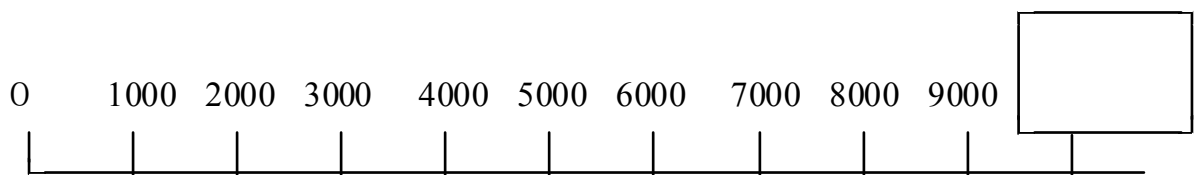


きほんのたしかめ

1万までの 数を しろう。

- 8 □に あてはまる 数を かきましょう。

1000 を 10 こ あつめた 数を とかきます。



9 つぎの □に あてはまる 数を かきましょう。

4900 について かんがえてみると、

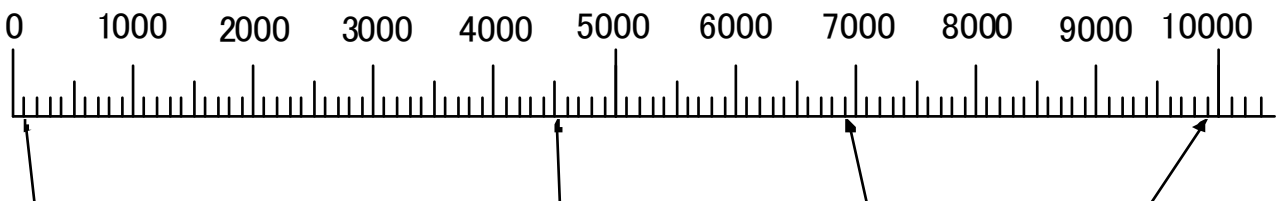
① 4900 は 100 を こ あつめた 数です。

② 4900 は 1000 を こと 100 を こ
あつめた 数です。

③ 4900 は 5000 より 小さい 数です。

ステップ2

10 下の 数の線の □に あてはまる 数を かきましょう。



①

②

③

④

①

②

③

④

11 5500 を あらわす めもりを 9 の めもりに ↑を つけましょう。

12 □にあてはまる数をかきましょう。

①

	7000	8000		10000
--	------	------	--	-------

②

10000	9900		9700	
-------	------	--	------	--

③

4960		4980	4990	
------	--	------	------	--

④

5100		5098	5097	
------	--	------	------	--

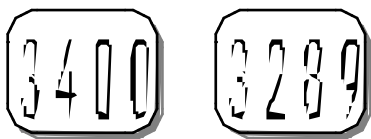
13 つぎの数を数字でかきましょう。

① 6990より10大きい数

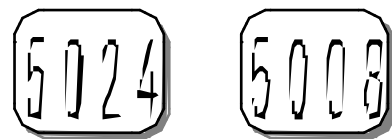
② 10000より3小さい数

14 大きいほうに○をかきましょう。

①



②

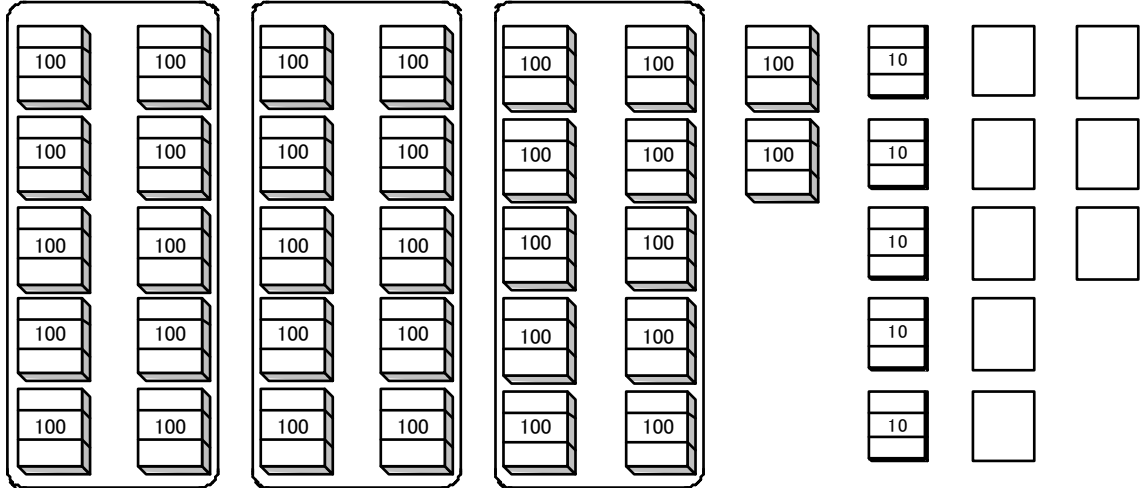


こたえのページ

きほんのたしかめ

1000より 大きい 数の あらわしかたを かんがえよう。

1 紙を 下のよう に せいり しました。□に あてはまる 数を かきましよう。



1000まいの たばを まるで かこむと、1000まいの たばが

3	つ
---	---


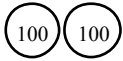

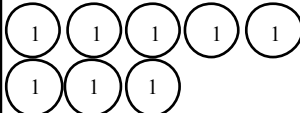
100まいの たばが

2	つ
---	---

10まいの たばが

5	つ
---	---

かみの 数を 数字で かくと、かく くらいの 数字は

							
1000が <table border="1" style="display: inline-table; width: 40px; height: 40px; vertical-align: middle;"><tr><td style="text-align: center;">3</td></tr></table> ことで	3	100が <table border="1" style="display: inline-table; width: 40px; height: 40px; vertical-align: middle;"><tr><td style="text-align: center;">2</td></tr></table> ことで	2	10が <table border="1" style="display: inline-table; width: 40px; height: 40px; vertical-align: middle;"><tr><td style="text-align: center;">5</td></tr></table> ことで	5	1が <table border="1" style="display: inline-table; width: 40px; height: 40px; vertical-align: middle;"><tr><td style="text-align: center;">8</td></tr></table> ことで	8
3							
2							
5							
8							
千のくらい	百のくらい	十のくらい	一のくらい				
3	2	5	8				

だから かみの数は

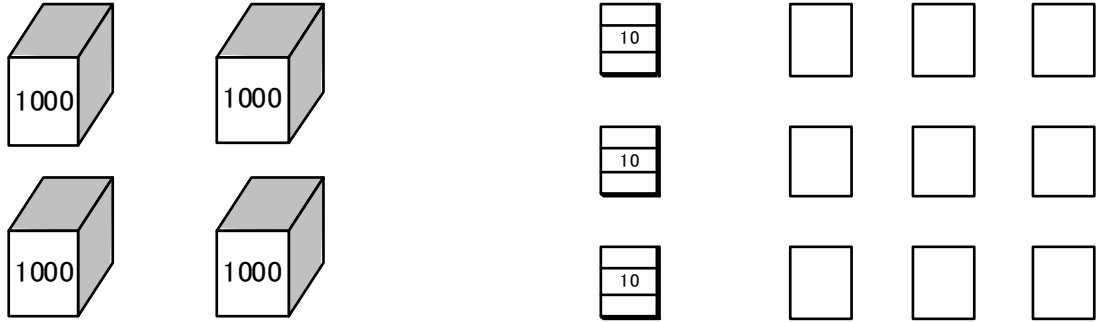
3 2 5 8

 まいです。

ステップ1

1000より 大きくて とちゅうに 0がある
数の あらわしかたを かんがえよう。

- ③ かみの 数が なんまいに なるか かんがえて、
□に あてはまる 数を かきましょう。



かみの 数を 数字で かくと、かく くらいの 数字は

1000が <input type="text" value="4"/> ことで	100が <input type="text" value="0"/> ことで	10が <input type="text" value="3"/> ことで	1が <input type="text" value="9"/> ことで
千のくらい	百のくらい	十のくらい	一のくらい
4	0	3	9

だから かみの数は まいです。

ステップ2

- ④ つぎの 数を よみましょう。

① 1482
千四百八十二

② 8135
八千百三十五

③ 7061
七千六十一

④ 9204
九千二百四

5 つぎの 数を 数字で かきましょう。

① 七千四百六十五

② 八千三十一

③ 千二

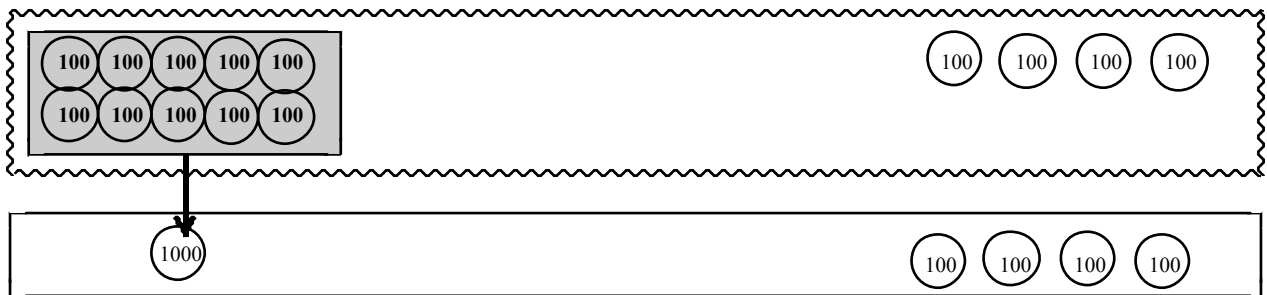
④ 1000 を 5 こ, 10 を 6 こ, 1 を 3 こ
あわせた 数

7 4 6 5
8 0 3 1
1 0 0 2
5 0 6 3

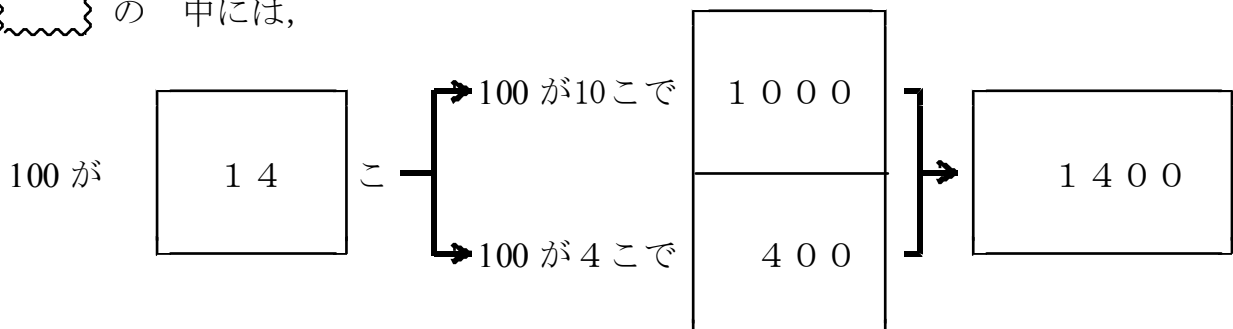
きほんのたしかめ

どんな数を いくつ あつめた数なのか かんがえよう。

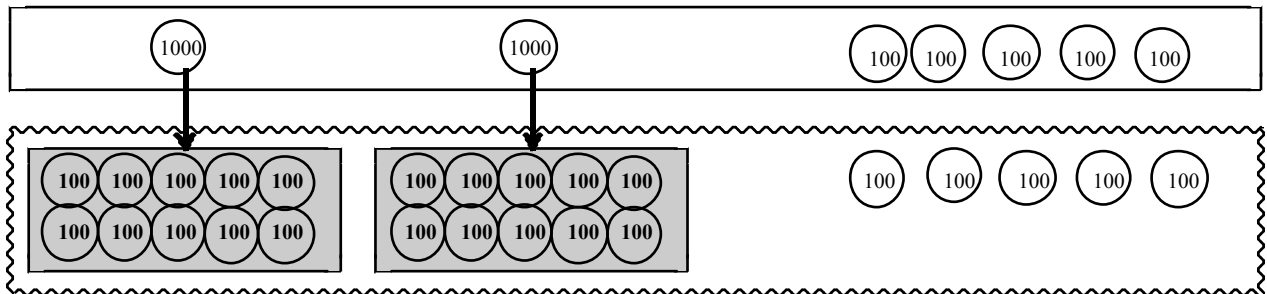
6 100 を 14 こ あつめた 数は いくつでしょう。
□に あてはまる 数を かきましょう。



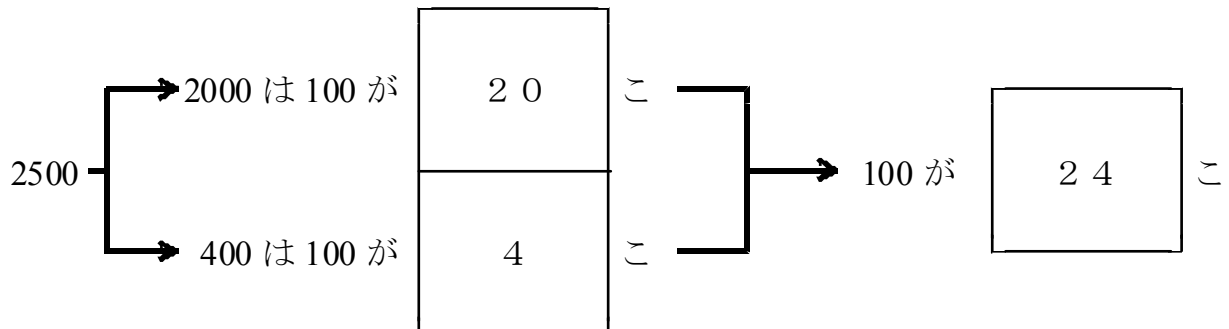
の 中には,



- 7 2500 は 100 を いくつ あつめた 数でしょう。
 □に あてはまる 数を かきましょう。



の 中には,

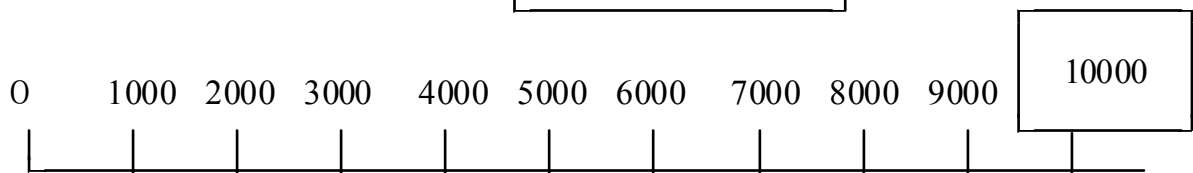


きほんのたしかめ

1万までの 数を しろう。

- 8 □に あてはまる 数を かきましょう。

1000 を 10こ あつめた 数を とかきます。



9 つぎの □に あてはまる 数を かきましょう。

4900 について かんがえてみると、

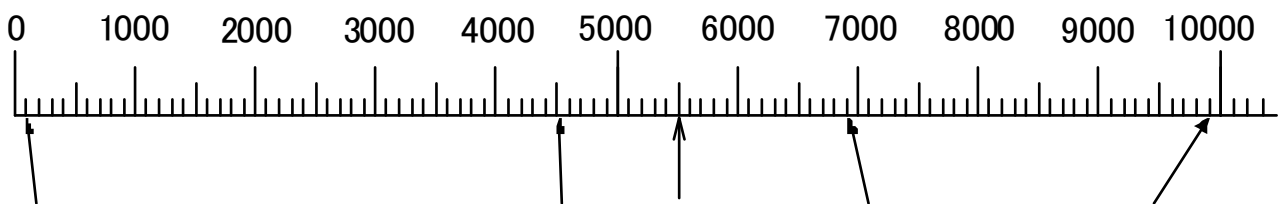
① 4900 は 100 を こ あつめた 数です。

② 4900 は 1000 を こと 100 を こ
あつめた 数です。

③ 4900 は 5000 より 小さい 数です。

ステップ2

10 下の 数の線の □に あてはまる 数を かきましょう。



①

① 100

②

② 4500

③

③ 6900

④

④ 9900

11 5500 を あらわす めもりを 9 の めもりに ↑を つけましょう。

12 □にあてはまる数をかきましょう。

- ①

6000	7000	8000	9000	10000
------	------	------	------	-------
- ②

10000	9900	9800	9700	9600
-------	------	------	------	------
- ③

4960	4970	4980	4990	5000
------	------	------	------	------
- ④

5100	5099	5098	5097	5096
------	------	------	------	------

13 つぎの数を数字でかきましょう。

① 6990より10大きい数

② 10000より3小さい数

7000
9997

13 大きいほうに○をかきましょう。

- ①

3400	3289
------	------
- ②

5024	5008
------	------