

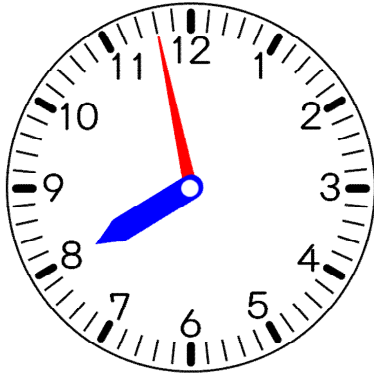
20 なんじなんぷん

きほんのたしかめ

とけいをみて じこくを よんだり かいたりしよう。

1 つぎの とけいの じこくを かきましょう。

①



②

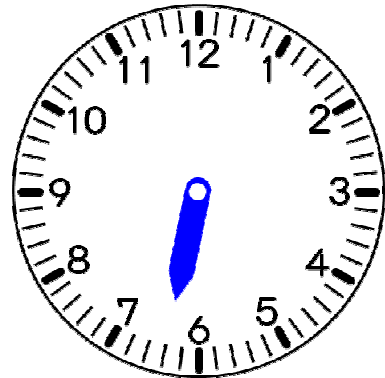
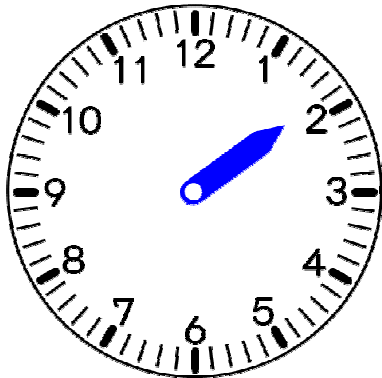
() ()

ステップ1

2 つぎの じこくの ながい はりを かきましょう。

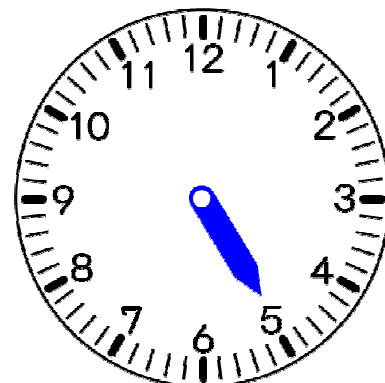
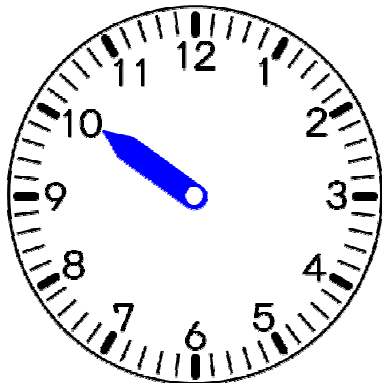
① 1じ45ふん

② 6じ20ぷん



③ 10じ8ぷん

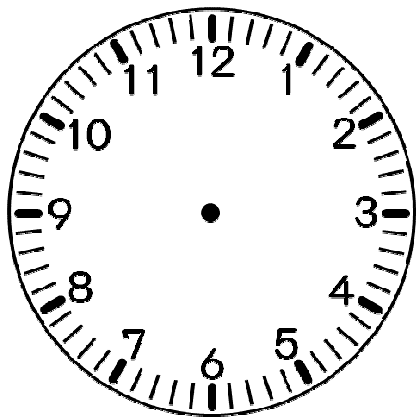
④ 4じ57ふん



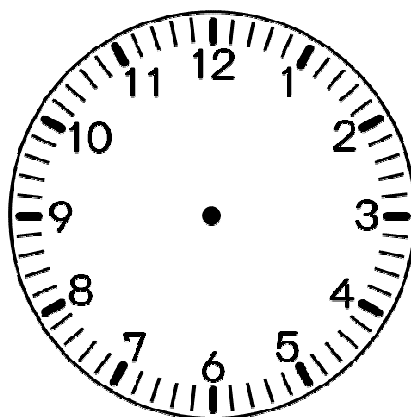
ステップ2

3 つぎの じこくに なるように、とけいに はりを かきましょう。

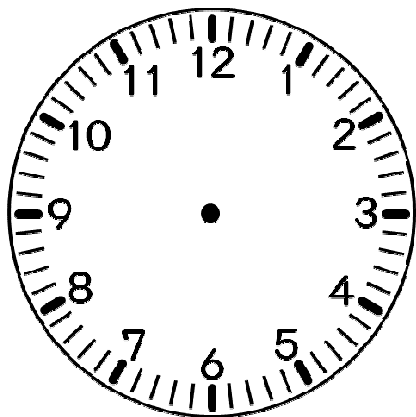
① 2じはん



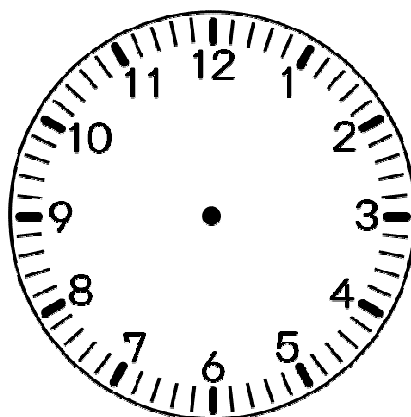
② 11じ15ふん



③ 3じ55ふん



④ 12じ5ふん



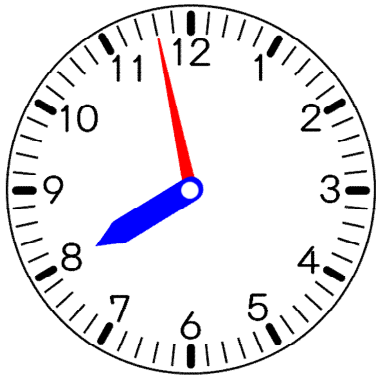
答えのページ

きほんのたしかめ

とけいをみて じこくを よんだり かいたりしよう。

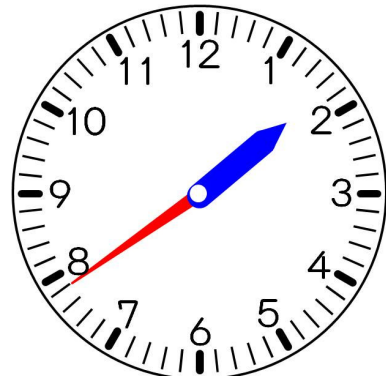
1 つぎの とけいの じこくを かきましょう。

①



(7じ58ぶん)

②

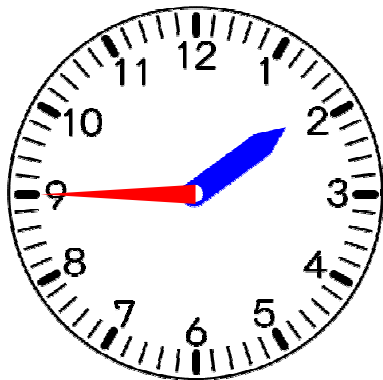


(1じ39ぶん)

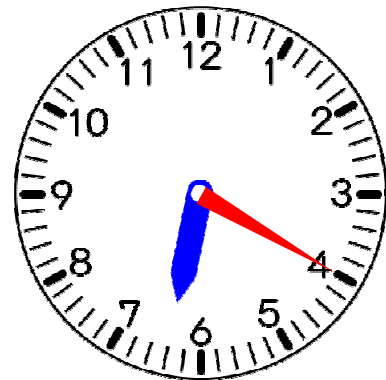
ステップ1

2 つぎの じこくの ながい はりを かきましょう。

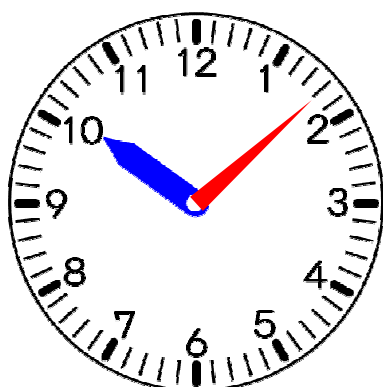
① 1じ45ぶん



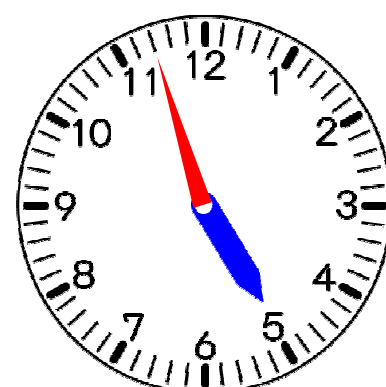
② 6じ20ぶん



③ 10じ8ぶん



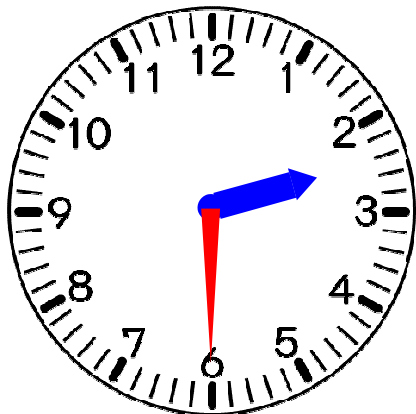
④ 4じ57ぶん



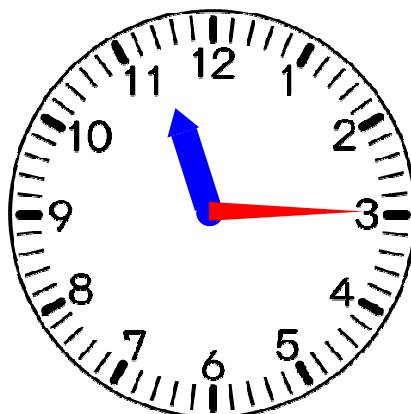
ステップ2

③ つぎの じこくになるように、とけいにはりをかきましょう。

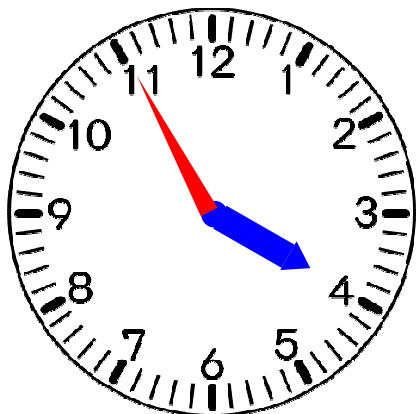
① 2じはん



② 11じ15ふん



③ 3じ55ふん



④ 12じ5ふん

