

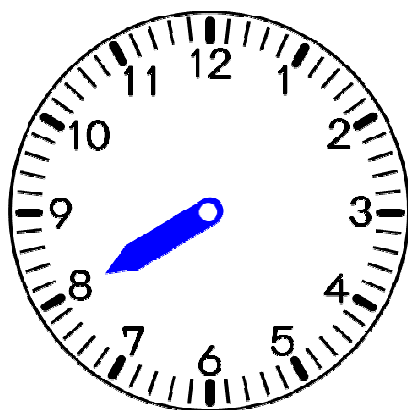
# 新 なんじ なんじはん

## きほんのたしかめ

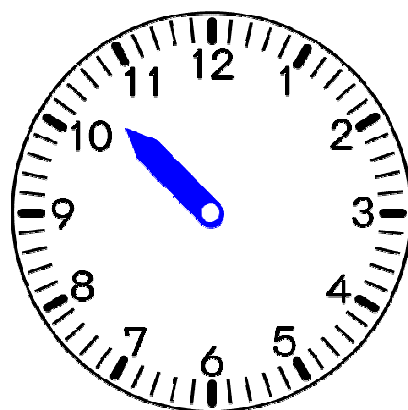
とけいをみて なんじか よんだり かいたりしよう。

1 ながい はりを かきましょう。

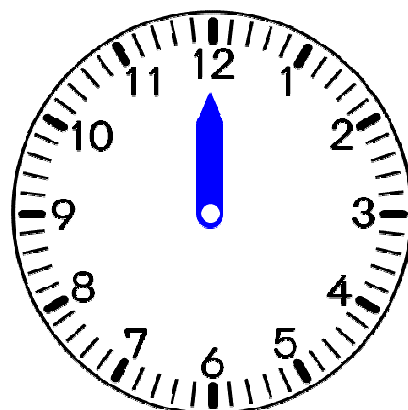
① 8じ



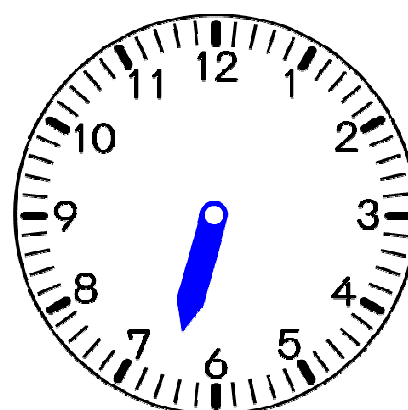
② 10じ30ぶん



③ 12じ



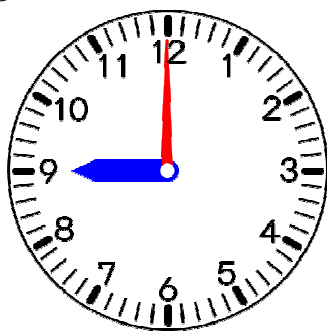
④ 6じはん



## ステップ1

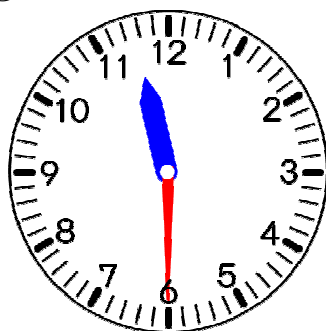
2 つぎの とけいの じこくを かきましょう。

①



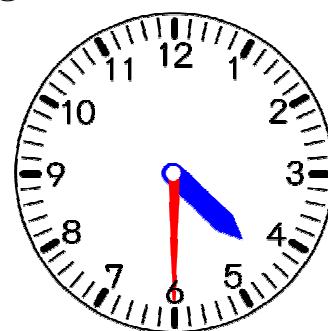
( )

②



( )

③



( )

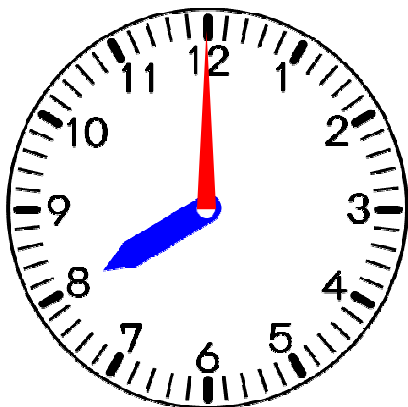
# 答えのページ

## きほんのたしかめ

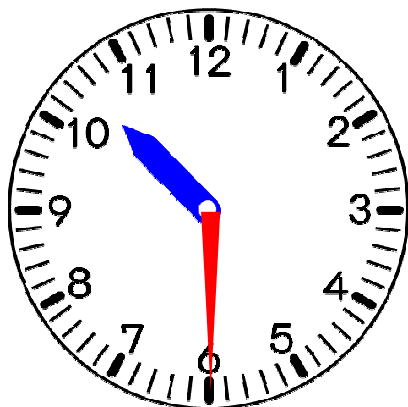
とけいをみて なんじか よんだり かいたりしよう。

1 ながい はりを かきましょう。

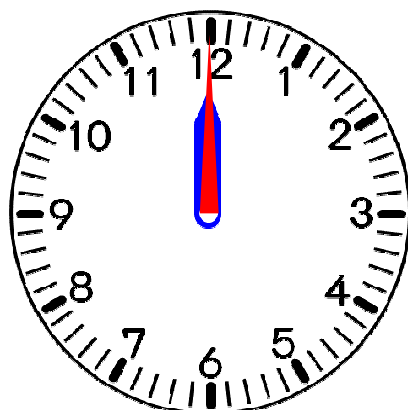
① 8じ



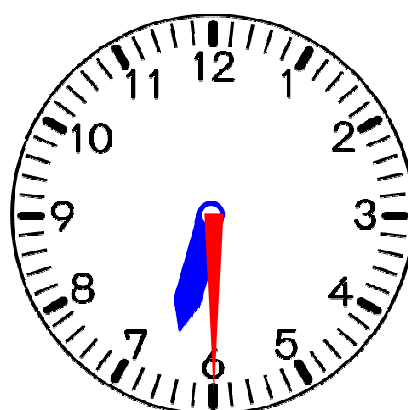
② 10じ30ぶん



③ 12じ



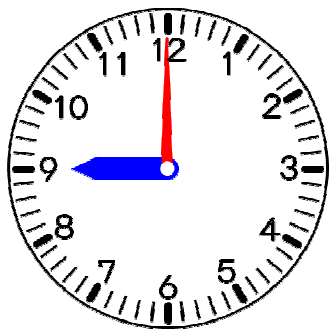
④ 6じはん



## ステップ1

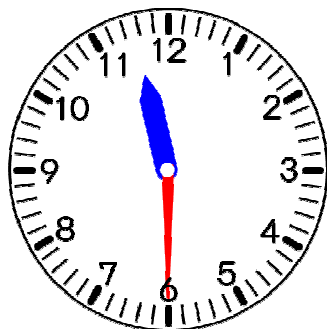
2 つぎの とけいの じこくを かきましょう。

①



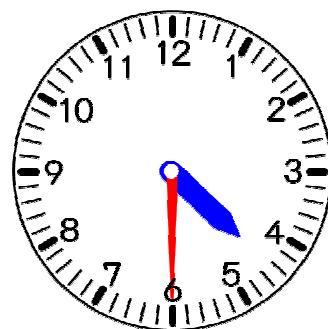
( 9 じ )

②



( 11 じはん )

③



( 4 じはん )