

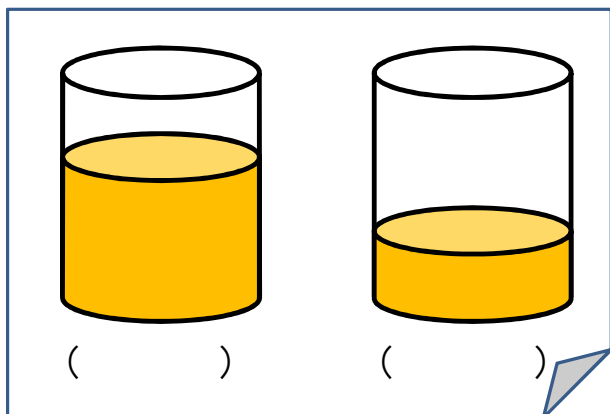
17 かさくらべ

きほんのたしかめ

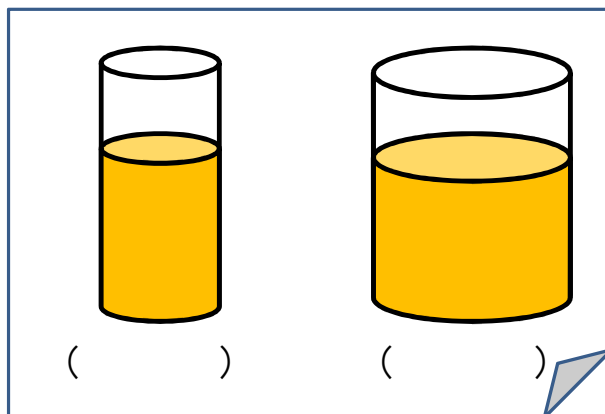
かさを くらべる ほうほうを かんがえよう。

1 おおく はいって いる ほうに ○を つけましょう。

①



②




ステップ1

2 いちばん おおく はいる いれものに ○をつけましょう。

あ



い



う



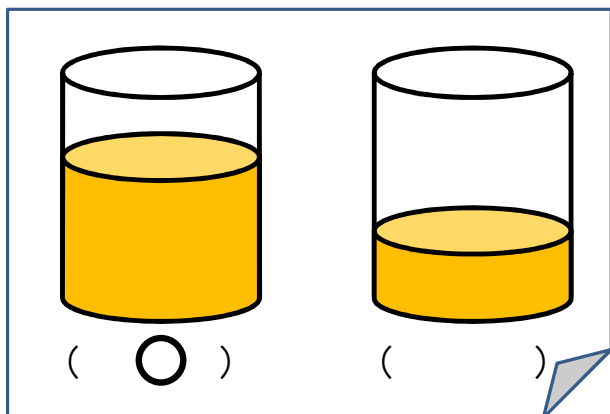
答えのページ

きほんのたしかめ


かさを くらべる ほうほうを かんがえよう。

1 おおく はいって いる ほうに ○を つけましょう。

①



②



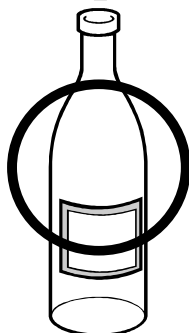
ステップ1

2 いちばん おおく はいる いれものに ○をつけましょう。

あ



い



う

