

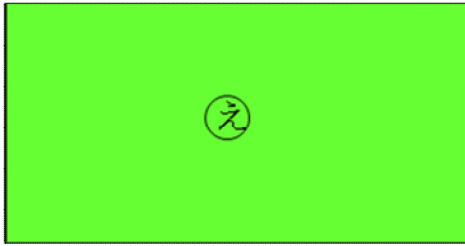
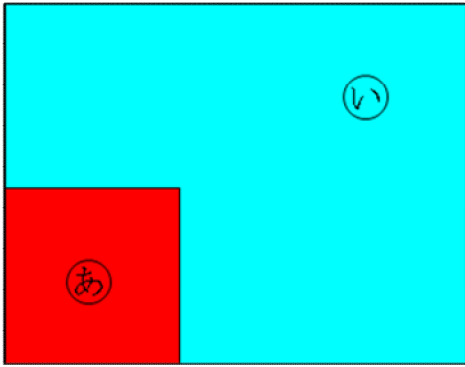
# 16 ひろさくらべ

## きほんのたしかめ

ひろさを くらべる ほうほうを かんがえよう。

1 ひろさを くらべましょう。


① ㊦と ㊧ ひろいのは ( )      ② ㊨と ㊩ ひろいのは ( )




## ステップ1

2 どちらが どれだけ ひろいか くらべましょう。

㊦



㊨



㊦は  が ( ) こ      ㊨は  が ( ) こ

( ) のほうが ( ) より

の ( ) こぶん ひろいです。


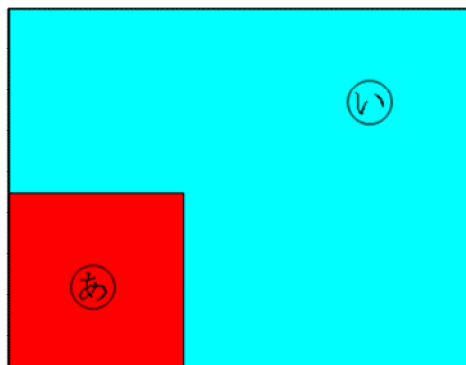
# 答えのページ

## きほんのたしかめ

ひろさを くらべる ほうほうを かんがえよう。

1 ひろさを くらべましょう。


① ㊦と ㊧ ひろいのは ( ㊧ )      ② ㊨と ㊩ ひろいのは ( ㊩ )




## ステップ1

2 どちらが どれだけ ひろいか くらべましょう。

㊦



㊧



㊦は  が ( 2 5 ) こ

㊧は  が ( 2 4 ) こ

( ㊦ ) のほうが ( ㊧ ) より

の ( 1 ) こぶん ひろいです。