

# 10. ひきざん

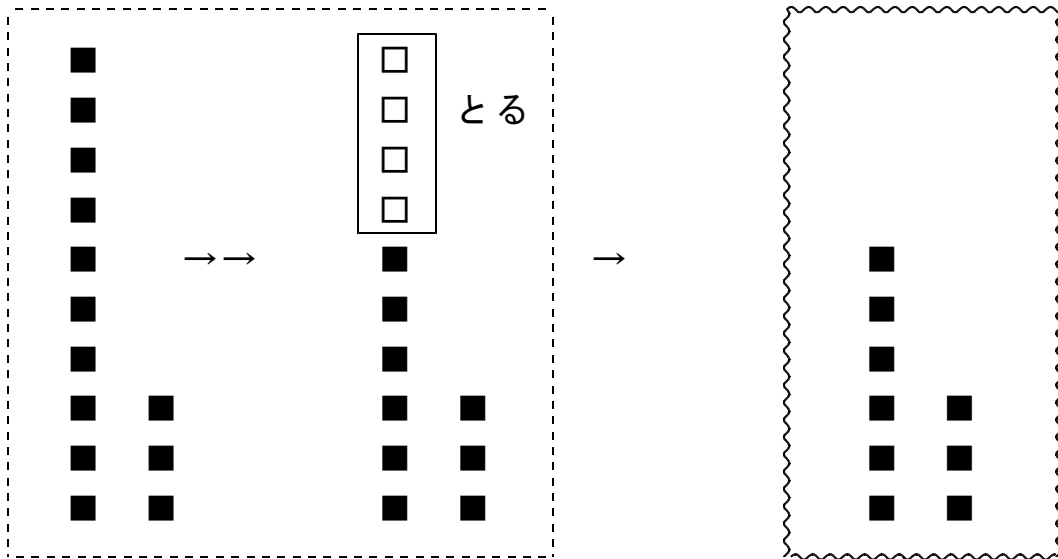
## きほんのたしかめ

10と いくつにわけて かんがえましょう。

- 1 あかい ばらを 13ほんありました。  
そのうち、4ほんが かれてしまいました。  
ばらは、なんぼん のこっているでしょう。

① しきを かきましょう。

② けいさんの しかたを えをみて せつめいしましょう。



★ 13のなかの10から ( )  
ひいて ( )

★ ( ) と ( ) で  
( )

③ ②のせつめいを しきで かいてみると

$$\begin{array}{r}
 13 - 4 \\
 \hline
 10 - ( ) + ( ) \\
 ( ) + ( )
 \end{array}$$

- 2 りんごが 12こ あります。5こ たべると  
のこりはいくつでしょう。

① しきを かきましょう。

- ( )
- ② 5と いくつで 10になりますか。 ( )
- ③ 12は 10と いくつですか。 ( )
- ④ つぎのしきの ( ) のなかに かずを 入れて かんがえましょう。

$$\begin{array}{r}
 12 - 5 \\
 \hline
 10 - ( ) + ( ) \\
 \hline
 ( ) + ( )
 \end{array}$$

3 かきが 8こ ありました。みかんは 14こ あります。  
 どちらが どれだけ おおいでしょう。

- ① しきを かきましょう。

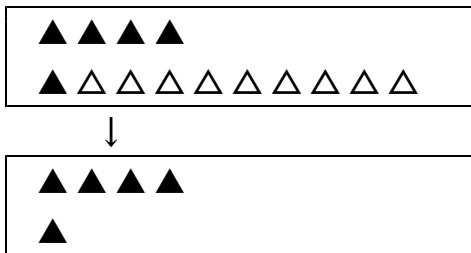
- ② けいさんの しかたを しきで せつめいしましょう。

$$\begin{array}{r}
 ( ) - ( ) \\
 \hline
 10 - ( ) + ( ) \\
 \hline
 ( ) + ( )
 \end{array}$$

### ステップ1

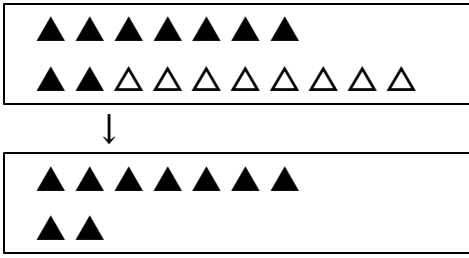
4 ( ) のなかに かずを 入れて けいさんしましょう。

- ① 14 - 9



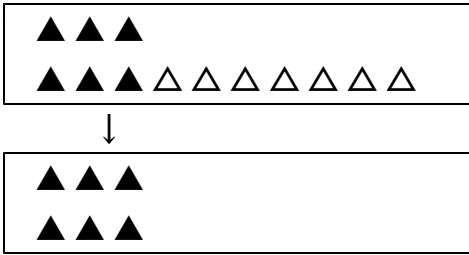
14 のなかの 10 から  
 ( ) をひいて ( )  
 ↓  
 ( ) と ( ) で ( )

② 1 7 - 8



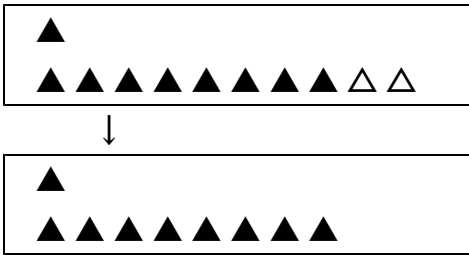
1 7 のなかの 1 0 から  
 ( ) をひいて ( )  
 ↓  
 ( ) と ( ) で ( )

③ 1 3 - 7



1 3 のなかの 1 0 から  
 ( ) をひいて ( )  
 ↓  
 ( ) と ( ) で ( )

④ 1 1 - 2



1 1 のなかの 1 0 から  
 ( ) をひいて ( )  
 ↓  
 ( ) と ( ) で ( )

5 けいさんをしましょう。

① 1 6 - 7

② 1 5 - 8

③ 1 7 - 9

④ 1 1 - 5

## ステップ2

6 こたえが おなじカードを せんで つなぎましょう。

- ①  $11 - 3$  ・  $11 - 6$
- ②  $14 - 8$  ・  $13 - 4$
- ③  $13 - 6$  ・  $12 - 6$
- ④  $18 - 9$  ・  $14 - 7$
- ⑤  $14 - 9$  ・  $15 - 7$

7 こたえが 大きいほうの カードに いろをぬりましょう。

- ①  $11 - 4$   $13 - 8$
- ②  $16 - 8$   $15 - 6$
- ③  $15 - 7$   $12 - 5$

8 あかいおてだまが 13こ ありました。  
しろいおてだまが 9こ ありました。  
どちらが どれだけ おおいでしょう。

しき

こたえ

こ

9 おとこのこが 15人 サッカーをしていました。  
とちゅうで 6にん かえりました。  
おとこのこは なんにんに なったでしょう。

しき

こたえ


にん

**ステップ3**

10 しきが 13-7 になる おはなしもんだいを つくりましょう。

- ① のこりは
- ② どちらがどれだけおおい
- ③ ①や②のことばでなくても へっているもんだい

つくったおはなしもんだいに うえの ばんごうを いれましょう。




うえにかいたおはなしもんだいを えで せつめいしてみましょう。  
(ひきざんということがわかるように えにもくふうができるといい  
ですね。)

--

ほかにも いろいろ ひきざんのおはなしもんだいがつくれたら、  
したに もんだいとばんごうを かきいれましょう。

めざせ！おはなしもんだいめいじん！

<hr/> <hr/>
-------------

<hr/> <hr/>
-------------

<hr/> <hr/>
-------------

## こたえ

1 - 1 0 - 1

### きほんのたしかめ

- 1 ① 1 3 - 4 (= 9)  
② 4 6  
6 3 9  
③ 4 3  
6 3
- 2 ① 1 2 - 5 (= 7)

1 - 1 0 - 2

- ② 5  
③ 2  
④ 5 2  
5 2 7

- 3 ① 1 4 - 8 (= 6)  
② 1 4 8  
8 4  
2 4

### ステップ1

- 4 ① 9 1  
1 4 5

1 - 1 0 - 3

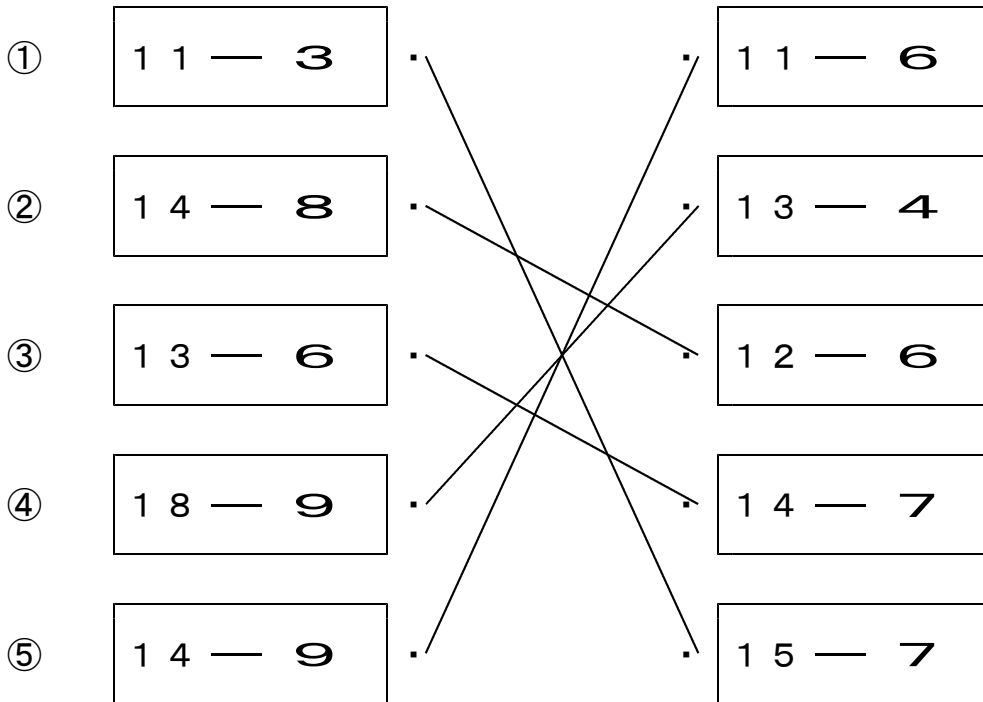
- ② 8 2  
2 7 9  
③ 7 3  
3 3 6  
④ 2 8  
8 1 9

- 5 ① 9 ② 7  
③ 8 ④ 6

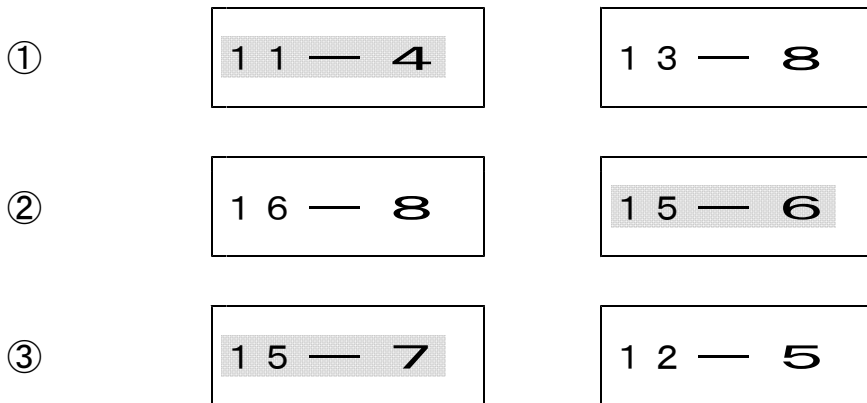
1 - 9 - 4

**ステップ 2**

6



7 こたえが 大きいほうの カードに いろをぬりましょう。



8 しき  $13 - 9 = 4$   
こたえ 4こ

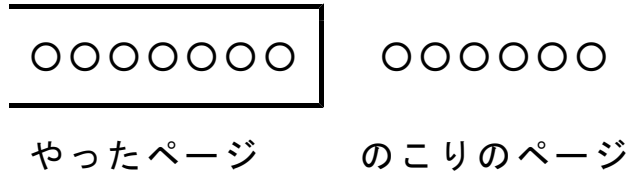
9 しき  $15 - 6 = 9$   
こたえ 9にん



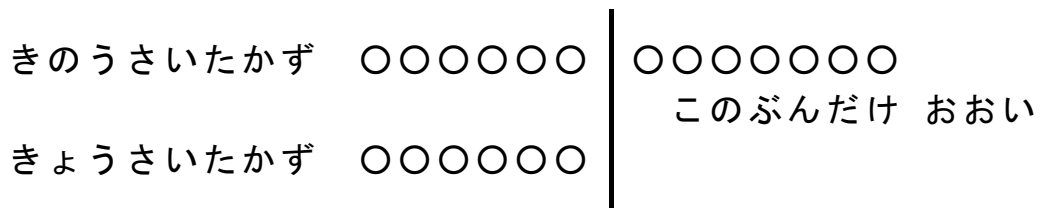
**ステップ3**

10 《こたえのれい》

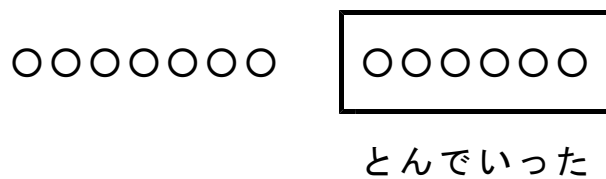
- 1 13ページある しゅくだいを、きょうまでに 7ページやりました。のこりは なんページでしょう。



- 2 きのは、あさがおが 13こ さきました。きょうは、6こ さきました。きのはと、きょうでは、どちらが どれだけおいしいですか。



- 3 すずめが 13わ いました。6わとんでいくと、なんわになりますか。



★ 「残り」を求めたり、「差」を求めたりするような絵になっていれば、丸をつけてあげてください。  
うまく絵で書けない場合には、ブロックなどの操作をしながらお話をしてもよいです。