

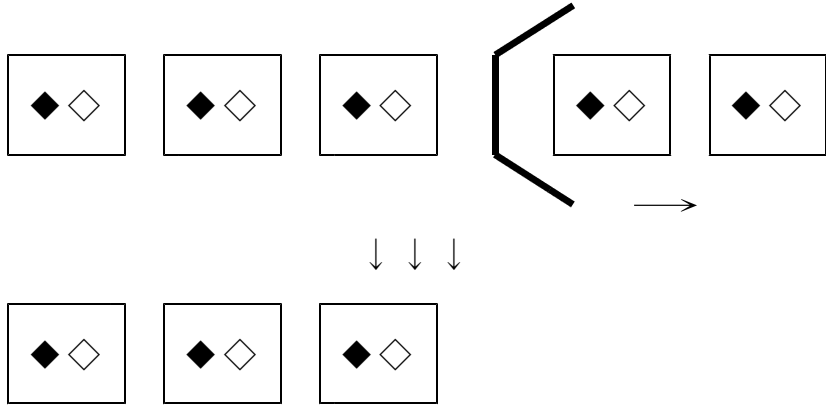
# 5. のこりはいくつ ちがいはいくつ

## (1) のこりは いくつ

### きほんのたしかめ

のこりは いくつになるか かんがえましょう。

- 1 けえきが 5こ ありました。おやつのでかんに 2こ 食べました。  
のこりは いくつになるでしょう。



5 から 2 をとると、  
のこりは ( ) になります。  
このことをしきでかくと

 となります。

- 2 あかい ぼらが 6ぼん ありました。  
2ぼん とると、のこりは なんぼん になるでしょう。

① しきで かきましょう。

② えを みながら、けいさんしましょう。

The diagram shows six black ovals in a row. A large arrow on the right side points to the right, with two black ovals positioned in front of it, indicating that two ovals are being removed from the total of six.

6 から ( ) をとると、のこりは ( ) になります。  
だから

—

=

になります。

こたえ ( ) ぼん

3 いろがみを 7まい もっていました。いもうとに 3まいあげました。のこりは なんまいになったでしょう。  
しきをかいて こたえましょう。

しき  こたえ  まい


4 いけの なかに かえるが 8ぴき およいで いました。そのうちの 5ぴきが とんでいってしまいました。のこりは なんぴきに になったでしょう。  
しきをかいて こたえましょう。

しき  こたえ  びき

のこりは いくつになるかは ひきざんを つかってもとめます。

### すてっぷ 1

5 りんごが 10こ あります。3こ たべると、なんこ のこるでしょう。



しき  こたえ  こ

6 こどもが 5にん あそんで いました。とちゅうで 3にん かえっていくと、こどもは なんにんに なるでしょう。



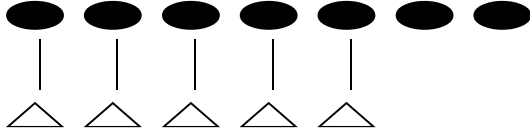
しき  こたえ  にん

(2) ちがいは いくつ

きほんのたしかめ

ちがいは いくつになるか かんがえましょう。

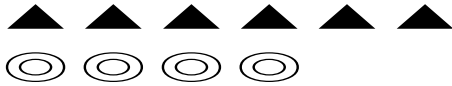
1 ●は△より いくつおおいでしょう。



しきをかいて ことえましょう。

しき  ことえ  二

2 ▲と◎の かずのちがいは いくつでしょう。



しきをかいて ことえましょう。

しき  ことえ  二

3 いぬが 7ひき います。ねこは 5ひき います。  
どちらが なんびき おおいでしょう。

しき  ことえ  が ひきおおい

ちがいを もとめるときも ひきざんを つかいます。

すてっぷ 1

4 あかい たまが 5こ、しろい たまが 8こ あります。  
どちらがが いくつ おおいでしょう。

あか ● ● ● ● ●

しろ ○ ○ ○ ○ ○ ○ ○ ○

しき  ことえ  が こ おおい

5 おとこのこは 7にん あそんで いました。おんなのこは 4にん あそんで いました。おんなのこは おとこのこより なんにん すくないでしょう。

おとこのこ ● ● ● ● ● ● ● ●

おんなのこ △ △ △ △

しき  こたえ  にん

**すてっぷ2**

6 こたえが おなじかあどを せんで つなぎましょう。

①  ・

②  ・

③  ・

④  ・

⑤  ・

7 こたえが 大きいほうの かあどに いろをぬりましょう。

①

②

③

8 かきが 4こ ありました。りんごは 6こ ありました。  
どちらが なんこおおいでしょう。

しき

こたえ が こおおい

9 おとこのこが5にん さっかあをしていました。おんなのこがふた  
なわとびをしていました。ちがいは なんにんでしょう。

しき

こたえ にん


**すてっぷ3**

1 しきが  $6 - 4$  になる おはなしもんだいをつくりましょう。


- ① のこりは ①から④のことばをつかうと
- ② ちがいは ひきざんのもんだいができます。
- ③ どちらがおおい (すくない)
- ④ どちらがどれだけおおい (すくない)
- ⑤ ①から④までのことばがなくても へる もんだい

じぶんで つくったおはなしもんだいは うえの なんばんになるのかを  
かんがえて □のなかに ばんごうを いれましょう。

(いろいろなしゅるいの もんだいができると いいですね。)

Large rectangular box with two horizontal dashed lines for writing.



Large rectangular box with two horizontal dashed lines for writing.

**こたえ**

**きほんのたしかめ**

1-5-1

3      5 - 2 = 3

① 6 - 2    ② 2   4    6   2   4   4

1-5-2

7 - 3 = 4      4

8 - 5 = 3      3

**すてっぷ1**

10 - 3 = 7      7

5 - 3 = 2      2

1-5-3

**きほんのたしかめ**

7 - 5 = 2    2     6 - 4 = 2    2

7 - 5 = 2    いぬが 2 ひき おおい

**すてっぷ1**

8 - 5 = 3      しろが 3 こ    おおい

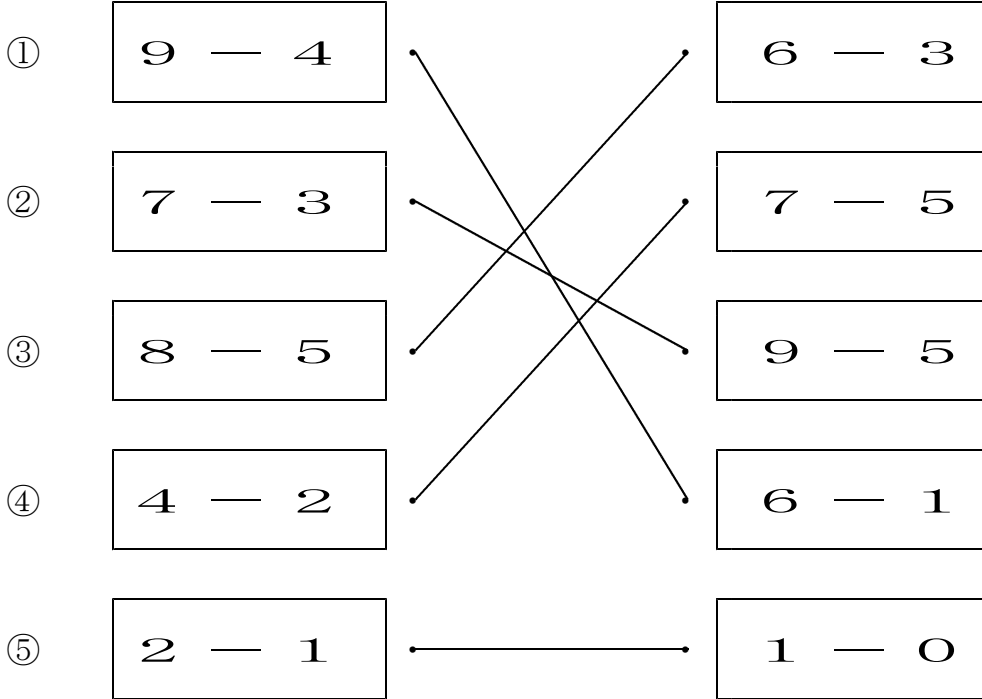
1-5-4

$5 \quad 7 - 4 = 3 \quad 3$

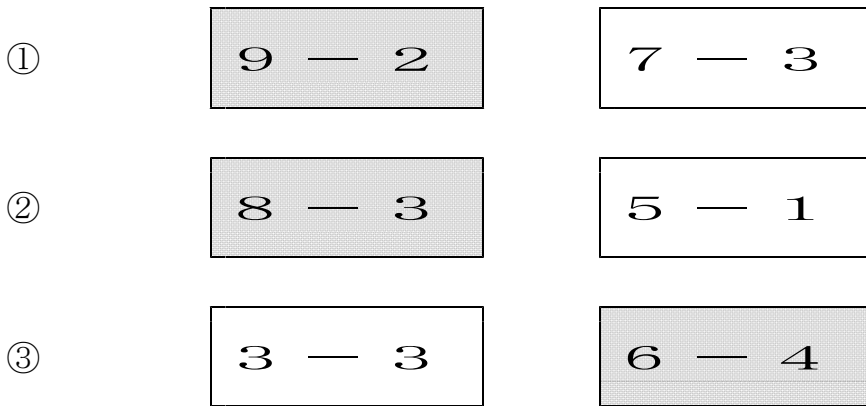
1-5-5

**すてっぷ2**

6



7



$8 \quad 6 - 4 = 2 \quad \text{りんごが} 2 \text{こおい}$

$9 \quad 5 - 2 = 3 \quad 3 \text{にん}$

1-5-6

**すてっぷ3**

こたえの れい

1 かごに、りんごが8こありました。3こたべました。  
のこりは なんこでしょう。

2 うしが7とう、うまが4とう いました。  
ちがいは なんとうでしょう。

- 3 あかい たまが 9こ、しろい たまが 5こ ありました。  
どちらが おおいでしょう。
- 4 ちゅうりっぷが 9ほん、ばらが 5ほん ありました。  
どちらが どれだけ おおいでしょう。
- 5 ことりが 5わいました。3わ とんでいくと、なんわになりますか。