

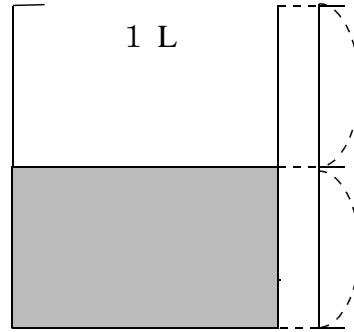
# 18 分数

## (1) 分けた大きさ

### きほんのたしかめ

○等分した1つ分をもとにして考えてみよう。

- ① やかんにどれだけ水が入るかを1 L まではかりました。すると、右の図のようになりました。  
水のかさは何 L といえいいでしょう。



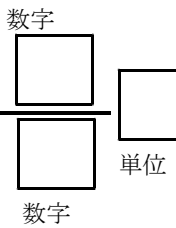
- ① 水のかさは、何等分した、いくつ分でしょう。

水のかさは、1 L を  等分した  つ分です。

この大きさは、もとの大きさの 二分の一 「にぶんのいち」といい、

$\frac{1}{2}$  とかいて表します。

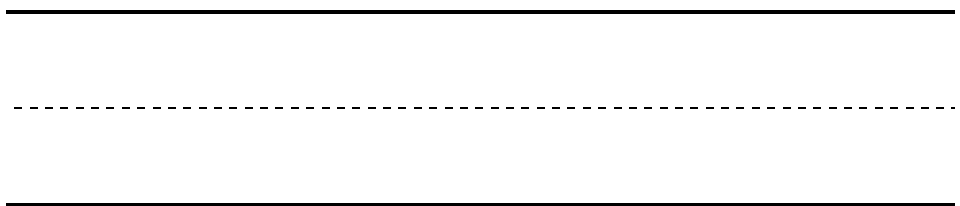
だから、水のかさは  $\frac{\text{数字}}{\text{数字}}$  とかいて「二分の一リットル」と読みます。



かくじゅん番

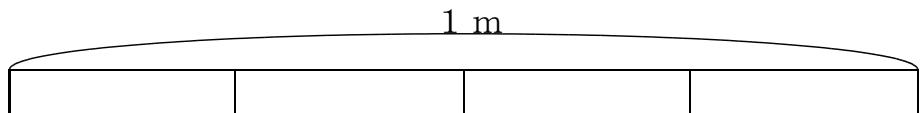
$\frac{1}{3}$  ③  
①  
②

5回練習しましょう

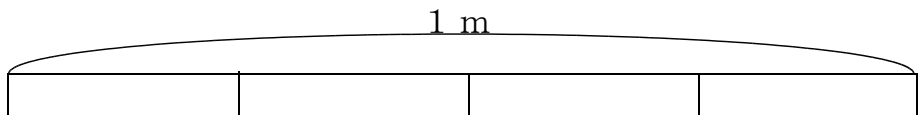


- ② 色をぬりましょう。

①  $\frac{3}{4}$  m



②  $\frac{3}{5}$  m



# 答えのページ

## (1) 分けた大きさ

### 基本のたしかめ

①

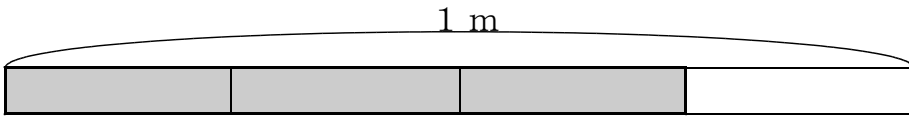
2

1

$\frac{1}{2}$  L

②

①



②

