

# 1 わかりやすくせいりしよう

(1) せいりのしかた

きほんのたしかめ

数を まとめましょう。

① 下の どうぶつの 数を しらべて こたえましょう。



① どうぶつの 数を ひょうに かきましょう。

どうぶつの 数しらべ

どうぶつ	さる	ぞう	ライオン	パンダ	いぬ
数	3				

② どうぶつの 数を ○をつかって グラフに あらわしましょう。




どうぶつの 数しらべ

○				
○				
○				
さる	ぞう	ライオン	パンダ	いぬ

ひょうや グラフに すると 数 はっきりと わかる。

ステップ 1

2 どんな やさいが いくつ あるか しらべて ひょうや グラフに あらわしましょう。



やさいの 数しらべ

じゃがいも	トマト	だいこん	ナス

やさいの 数しらべ

やさい	じゃがいも	トマト	だいこん	ナス
数				

ステップ 2

3 下の おかしの 数を しらべて こたえましょう。



おかしの 数しらべ

チョコレート	ケーキ	ドーナツ	プリン

① おかしの 数を ひょうに かきましょう。

おかしの 数しらべ

おかし	チョコレート	ケーキ	ドーナツ	プリン
数				

② いちばん おおい おかしは なんでしょう

③ おかしの 数を よこの グラフに かきましょう。

④ ケーキはプリンより なんこ おおいでしょう。

こたえ

(1) せいのしかた

きほんのたしかめ

1 下の どうぶつの 数を しらべて こたえましょう。



① どうぶつの 数を ひょうに かきましょう。

どうぶつの 数しらべ

どうぶつ	さる	ぞう	ライオン	パンダ	いぬ
数	3	5	4	7	2




② どうぶつの 数を ○をつかって グラフに あらわしましょう。

どうぶつの 数しらべ

			○	
			○	
	○		○	
	○	○	○	
○	○	○	○	
○	○	○	○	○
○	○	○	○	○
さる	ぞう	ライオン	パンダ	いぬ

**ステップ 1**

② どんな やさいが いくつ あるか しらべて ひょうや グラフに あらわしましょう。



やさいの 数しらべ


やさい	じゃがいも	トマト	だいこん	ナス
数	5	2	3	8

やさいの 数しらべ

			○
			○
			○
○			○
○			○
○		○	○
○	○	○	○
○	○	○	○
じゃがいも	トマト	だいこん	ナス

**ステップ 2**

③ 下のおかしの 数を しらべて こたえましょう。



① おかしの 数を ひょうに かきましょう。

おかしの 数しらべ

おかし	チョコレート	ケーキ	ドーナツ	プリン
数	4	7	6	4

おかしの 数しらべ

	○		
	○	○	
	○	○	
○	○	○	○
○	○	○	○
○	○	○	○
チョコレート	ケーキ	ドーナツ	プリン

② いちばん おおい おかしは なんでしょう

**ケーキ**

③ おかしの 数を よこの グラフに かきましょう。

④ ケーキは プリンより なんこ おおいでしょう。

**3こ**

