



# 15 大きな かず

## きほんのたしかめ

ずや えから かずを かんがえてみましょう

1 たかしさんと はるかさんが とった ボールのかずを すうじで かきましょう。



10 が      こと    1 が      こと  
       \_\_\_\_\_                      \_\_\_\_\_  
       \_\_\_\_\_  
       です。

10 が      こと                      こと                      です。  
       \_\_\_\_\_                      \_\_\_\_\_

十のくらい	一のくらい

十のくらい	一のくらい

2 かずをかきましょう。




まい

3 かずをかきましょう。

① 10を6こあつめたかず

② 10を7こと1を6こあつめたかず

4 かずをかきましょう。

 えん

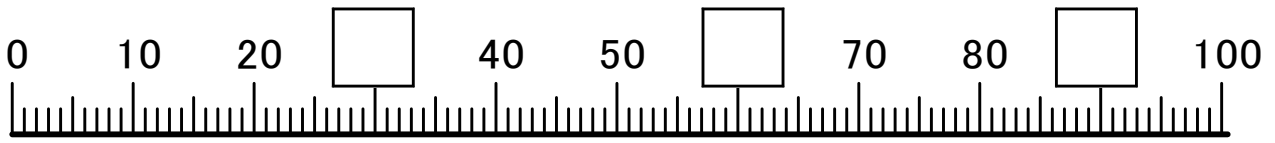
5

0	1	2	3	4	5	6	7	8	9
10		12	13		15		17	18	19
20	21		23	24	25			28	
30	31	32			35	36	37		39
40	41		43	44			47		49
50		52	53	54	55	56		58	
	61	62			65	66	67		69
70	71		73	74			77	78	79
	81	82	83		85	86		88	
90		92		94		96	97		99
100									

① □にかずをかきましょう。

② 一のくらいが7のかずをぜんぶかきましょう。

6 かずのせんの □にかずを かいて つぎの ことをしら  
べましょう。



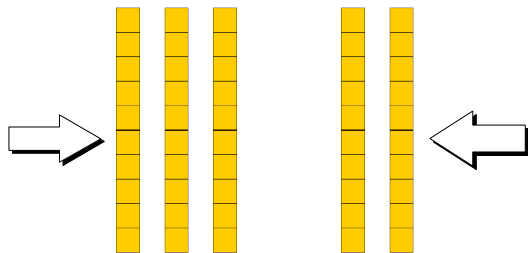
① 35より3 おおきい かず

② 95より5 おおきい かず

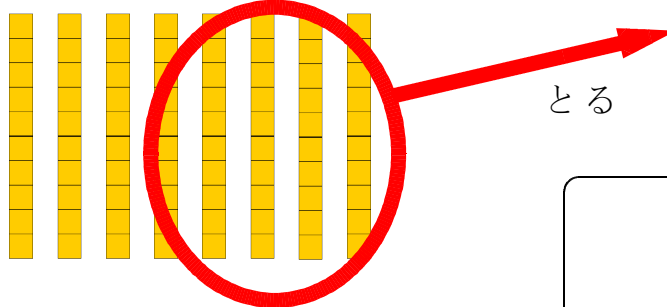
③ 100より4 ちいさい かず

7 かずを かきましょう。

① 30と20を あわせた かず




② 80から50をとった かず




おおきなかずは、「10がいくつ」やと「1がいくつ」でかん  
がえるとよい。

すてっぷ 1

8

① 73 の 十のくらの すうじは \_\_\_\_\_ で、

一のくらの すうじは \_\_\_\_\_ です。

② 90 の 十のくらの すうじは \_\_\_\_\_ で、

一のくらの すうじは \_\_\_\_\_ です。

9

① 80 は 10 を \_\_\_\_\_ こ あつめた かず です。

② 96 は 10 を \_\_\_\_\_ こと 1 を \_\_\_\_\_ こ あわせた かず です。

10 おおきい ほうに ○ を つけましよう。

① 

67	69
----	----

② 

84	94
----	----

③ 

100	98
-----	----

11 かずを かきましよう。

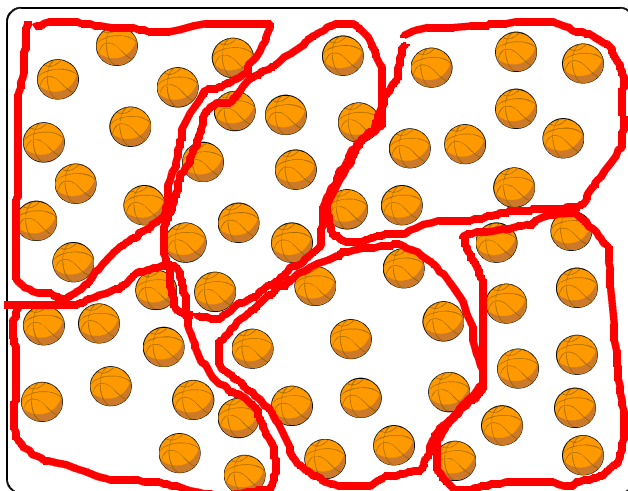
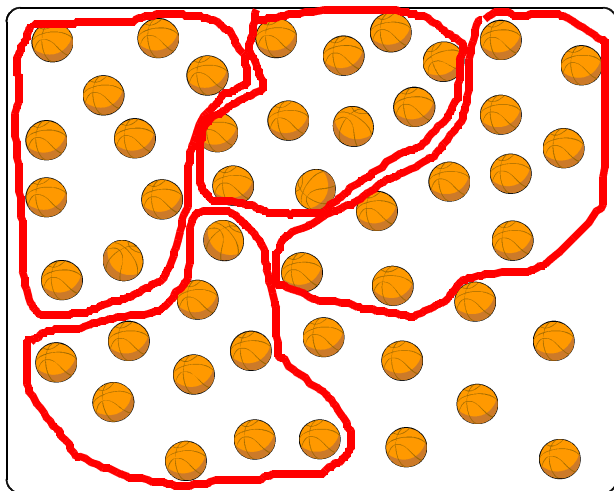
① 50 と 30 を あわせた かず

② 100 から 90 を とった かず

# こたえのページ

## きほんのたしかめ

1 たかしさんと はるかさんが とった ボールのかずを すうじで かきましょう。



10が 4 こと 1が 7 ことで  
47 です。

10が 6 ことで 60 です。

十のくらい	一のくらい
4	7

十のくらい	一のくらい
6	0

2 かずをかきましょう。



40

まい

3 かずをかきましょう。

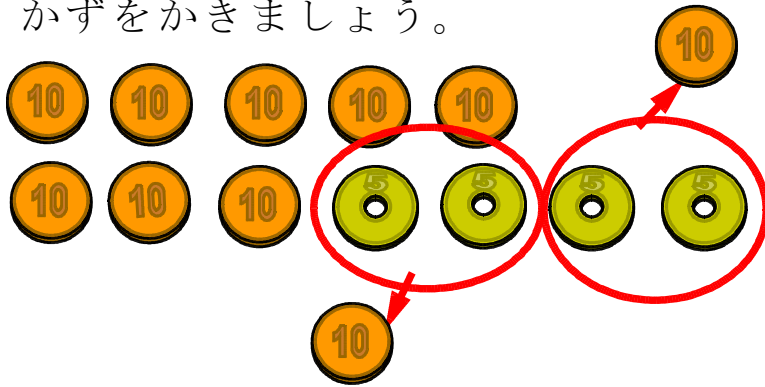
① 10を6こあつめたかず

60

② 10を7こと1を6こあつめたかず

76

4 かずをかきましょう。



100 せん

5

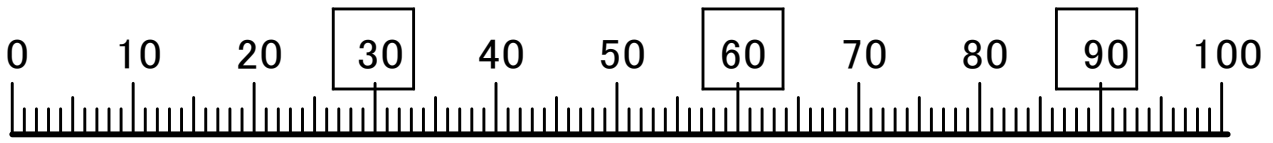
0	1	2	3	4	5	6	7	8	9
10	11	12	13	14	15	15	17	18	19
20	21	22	23	24	25	26	27	28	29
30	31	32	33	34	35	36	37	38	39
40	41	42	43	44	45	46	47	48	49
50	51	52	53	54	55	56	57	58	59
60	61	62	63	64	65	66	67	68	69
70	71	72	73	74	75	76	77	78	79
80	81	82	83	84	85	86	87	88	89
90	91	92	93	94	95	96	97	98	99
100									

① □にかずをかきましょう。

② 一のくらいが7のかずをぜんぶかきましょう。

7, 17, 27, 37, 47, 57, 67, 77, 87, 97

6 かずのせんの □にかずを かいて つぎの ことをしら  
べましょう。



① 35より3 おおきい かず

38

② 95より5 おおきい かず

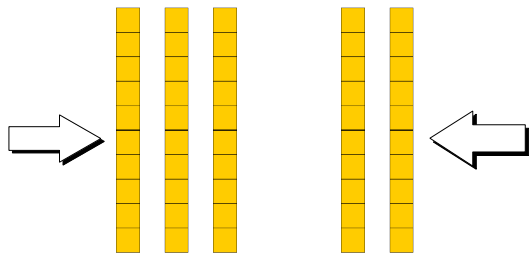
100

③ 100より4 ちいさい かず

96

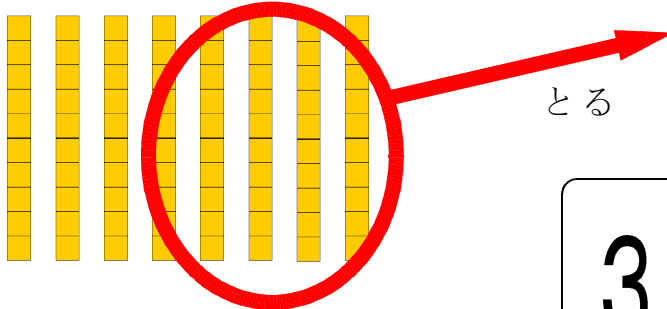
7 かずを かきましょう。

① 30と20を あわせた かず



50

② 80から50をとった かず



30

おおきなかずは、「10がいくつ」やと「1がいくつ」でかん  
がえるとよい。

すてっぷ 1

8

① 73 の 十のくらの すうじは 7 で、

一のくらの すうじは 3 です。

② 90 の 十のくらの すうじは 9 で、



一のくらの すうじは 0 です。

9

① 80 は 10 を 8 こ あつめた かず です。

② 96 は 10 を 9 こと 1 を 6 こ あわせた かず です。

10 おおきい ほうに ○ を つけましよう。

①  ②  ③ 

11 かずを かきましよう。

① 50 と 30 を あわせた かず

80

② 100 から 90 を とった かず

10