

14. ひきざん

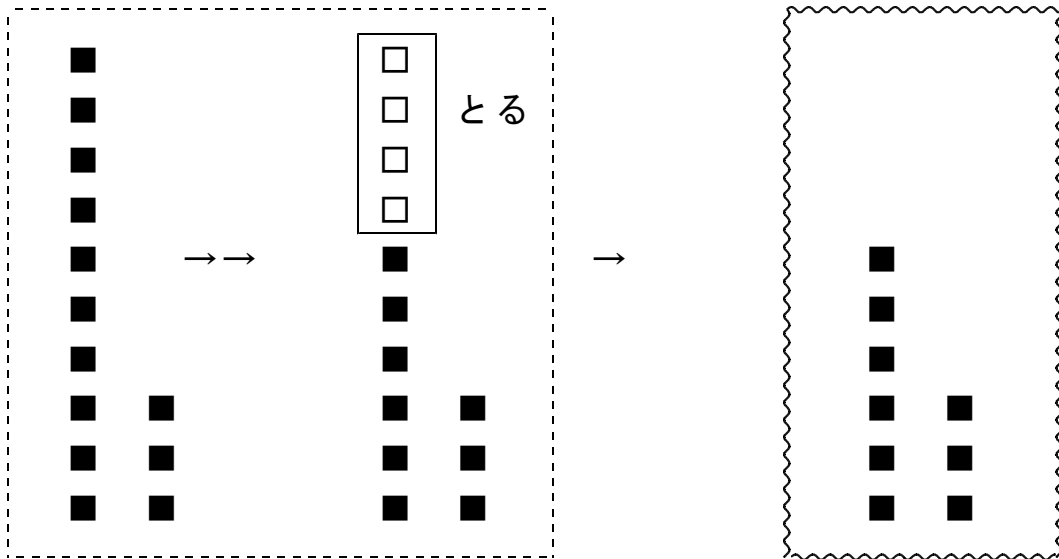
きほんのたしかめ

10と いくつにわけて かんがえましょう。

- 1 あかい ばらが 13ぼん ありました。
そのうち、4ぼんが かれてしまいました。
ばらは、なんぼん のこっているでしょう。

① しきを かきましょう。

② けいさんの しかたを えをみて せつめいしましょう。



★ 13のなかの10から ()
ひいて ()

★ () と () で
()

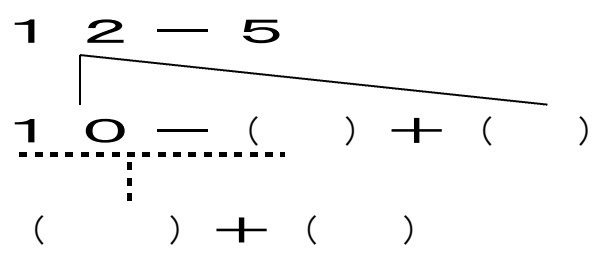
③ ②のせつめいを しきで かいてみると

$$\begin{array}{r}
 13 - 4 \\
 \hline
 10 - () + () \\
 \hline
 () + ()
 \end{array}$$

- 2 りんごが 12こ あります。5こ たべると
のこりはいくつでしょう。

① しきを かきましょう。

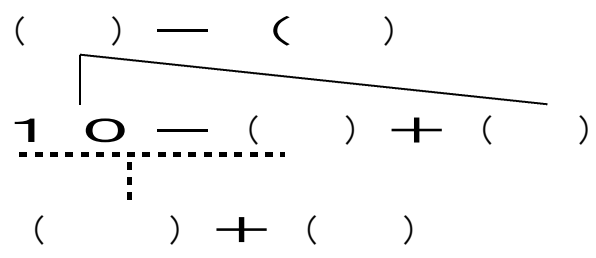
- ()
- ② 5と いくつで 10になりますか。 ()
- ③ 12は 10と いくつですか。 ()
- ④ つぎのしきの () のなかに かずを 入れて かんがえましょう。



3 かきが 8こ ありました。みかんは 14こ あります。
 どちらが どれだけ おおいでしょう。

- ① しきを かきましょう。

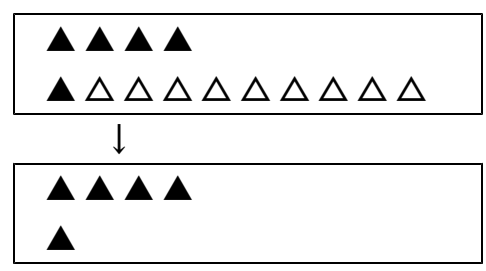
- ② けいさんの しかたを しきで せつめいしましょう。



ステップ 1

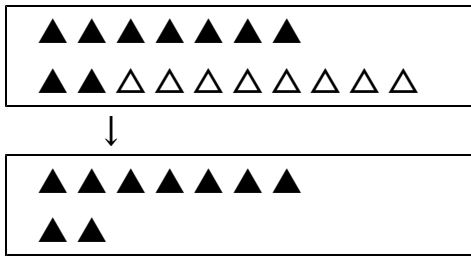
4 () のなかに かずを 入れて けいさんしましょう。

- ① 1 4 - 9



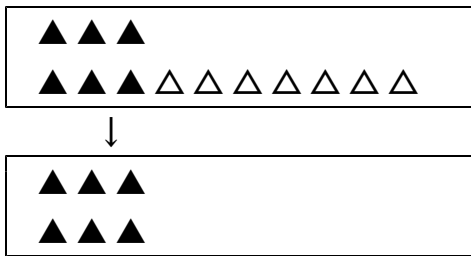
1 4 のなかの 1 0 から
 () をひいて ()
 ↓
 () と () で ()

② 1 7 - 8



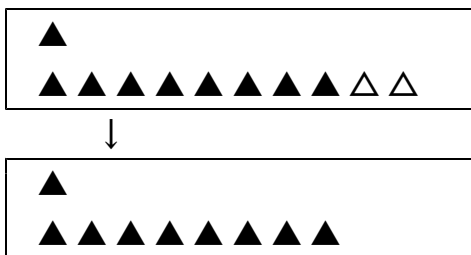
1 7 のなかの 1 0 から
 () をひいて ()
 ↓
 () と () で ()

③ 1 3 - 7



1 3 のなかの 1 0 から
 () をひいて ()
 ↓
 () と () で ()

④ 1 1 - 2



1 1 のなかの 1 0 から
 () をひいて ()
 ↓
 () と () で ()

5 けいさんをしましょう。

① 1 6 - 7

② 1 5 - 8

③ 1 7 - 9

④ 1 1 - 5

ステップ2

6 こたえが おなじカードを せんで つなぎましょう。

- ① $11 - 3$ ・ $11 - 6$
- ② $14 - 8$ ・ $13 - 4$
- ③ $13 - 6$ ・ $12 - 6$
- ④ $18 - 9$ ・ $14 - 7$
- ⑤ $14 - 9$ ・ $15 - 7$

7 こたえが 大きいほうの カードに いろをぬりましょう。

- ① $11 - 4$ $13 - 8$
- ② $16 - 8$ $15 - 6$
- ③ $15 - 7$ $12 - 5$

8 あかいおてだまが 13こ ありました。
しろいおてだまが 9こ ありました。
どちらが どれだけ おおいでしょう。

しき

こたえ が
こ おおい

9 おとこのこが 15人 サッカーをしていました。
とちゅうで 6にん かえりました。
おとこのこは なんにんに なったでしょう。

しき

こたえ


にん

ステップ3

10 しきが 13-7 になる おはなしもんだいを つくりましょう。

- ① のこりは
- ② どちらがどれだけおおい
- ③ ①や②のことばでなくても へっているもんだい

つくったおはなしもんだいに うえの ばんごうを いれましょう。



うえにかいたおはなしもんだいを えで せつめいしてみましょう。
(ひきざんということがわかるように えにもくふうができるといい
ですね。)

--

ほかにも いろいろ ひきざんのおはなしもんだいがつくれたら、
したに もんだいとばんごうを かきいれましょう。

めざせ！おはなしもんだいめいじん！

<hr/> <hr/>

<hr/> <hr/>

<hr/> <hr/>

こたえ

1 - 1 0 - 1

きほんのたしかめ

- 1 ① 1 3 - 4 (= 9)
② 4 6
6 3 9
③ 4 3
6 3
- 2 ① 1 2 - 5 (= 7)

1 - 1 0 - 2

- ② 5
③ 2
④ 5 2
5 2 5 2

- 3 ① 1 4 - 8 (= 6)
② 1 4 8
8 4
2 4

ステップ1

- 4 ① 9 1
1 4 5

1 - 1 0 - 3

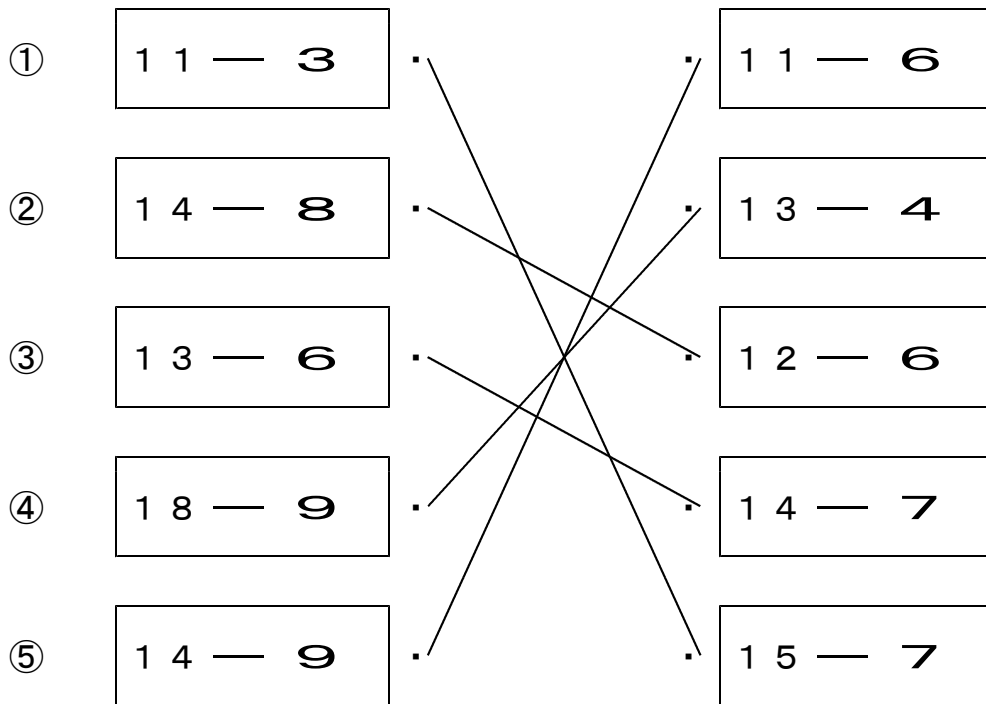
- ② 8 2
7 2 9
③ 7 3
3 3 6
④ 2 8
1 8 9

- 5 ① 9 ② 7
③ 8 ④ 6

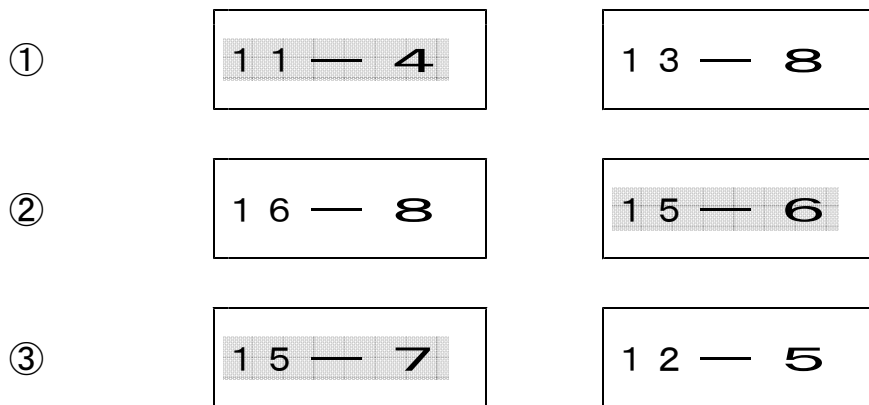
1 - 9 - 4

ステップ 2

6



7 こたえが 大きいほうの カードに いろをぬりましょう。



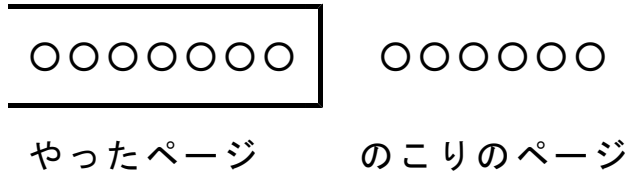
8 しき $13 - 9 = 4$
こたえ あかが 4 こおおい

9 しき $15 - 6 = 9$
こたえ 9 にん

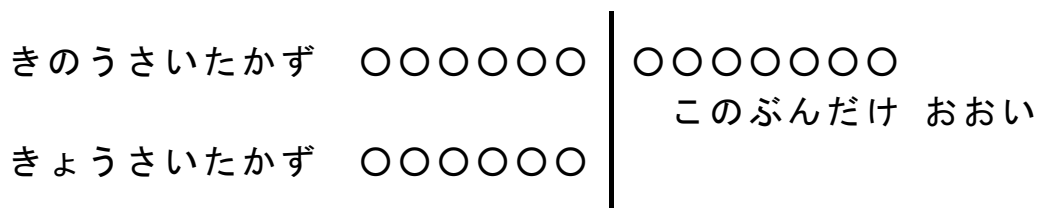
ステップ3

10 《こたえのれい》

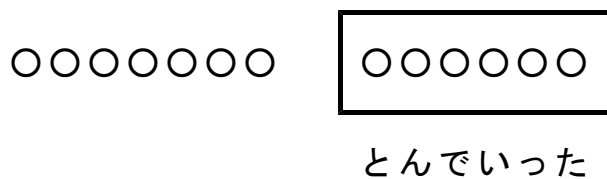
- 1 13ページある しゅくだいを、きょうまでに 7ページやりました。のこりは なんページでしょう。



- 2 きのは、あさがおが 13こ さきました。きょうは、6こ さきました。きのはと、きょうでは、どちらが どれだけおいしいですか。



- 3 すずめが 13わ いました。6わとんでいくと、なんわになりますか。



★ 「残り」を求めたり、「差」を求めたりするような絵になっていれば、丸をつけてあげてください。
うまく絵で書けない場合には、ブロックなどの操作をしながらお話をしてもよいです。