



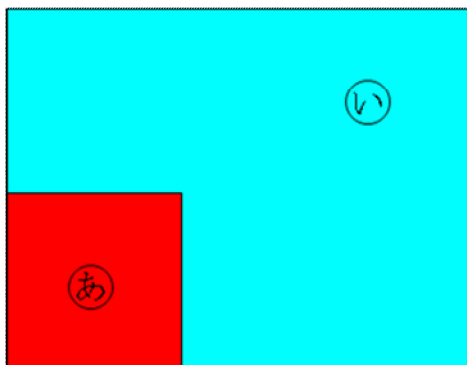
10 ながさくらべ と ひろさくらべ

きほんのたしかめ

ひろさを くらべる ほうほうを かんがえよう。

1 ひろさを くらべましょう。


① ㊦と㊧ ひろいのは () ② ㊨と㊩ ひろいのは ()




ステップ1

2 どちらが どれだけ ひろいか くらべましょう。

㊦



㊨



㊦は が () こ

㊨は が () こ

() のほうが () より

の () こぶん ひろいです。


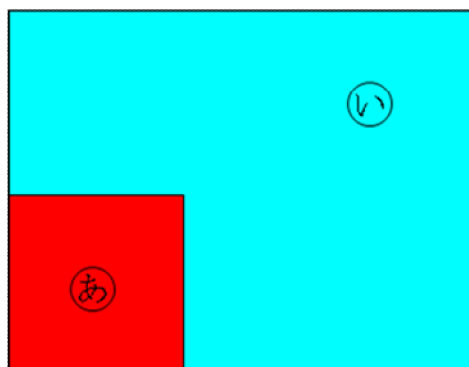
こたえのページ

きほんのたしかめ

ひろさを くらべる ほうほうを かんがえよう。

1 ひろさを くらべましょう。


① ㊦と ㊧ ひろいのは (㊧) ② ㊨と ㊩ ひろいのは (㊩)




ステップ1

2 どちらが どれだけ ひろいか くらべましょう。

㊦



㊨



㊦は が (25) こ

㊨は が (20) こ

(㊦) のほうが (㊨) より

の (1) こぶん ひろいです。