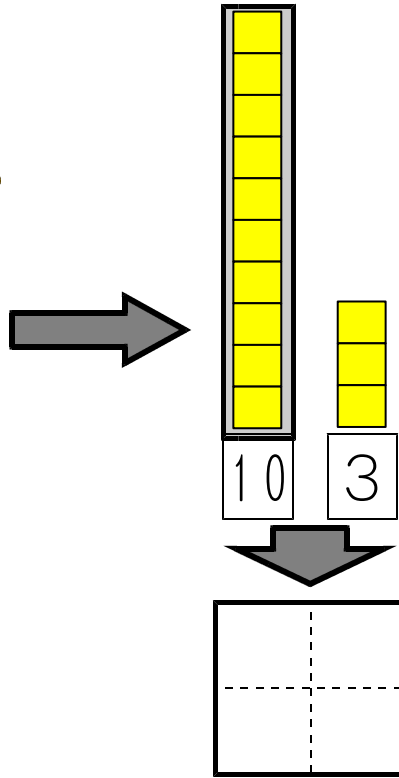



7 10より おおきい かず

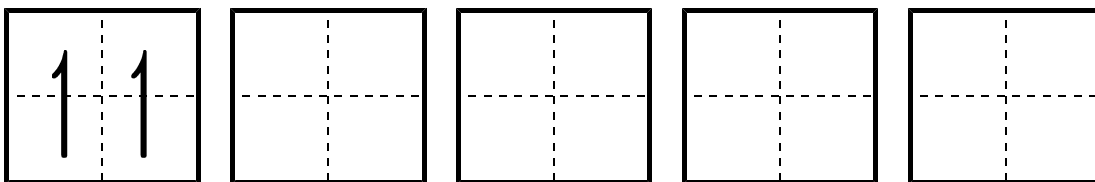
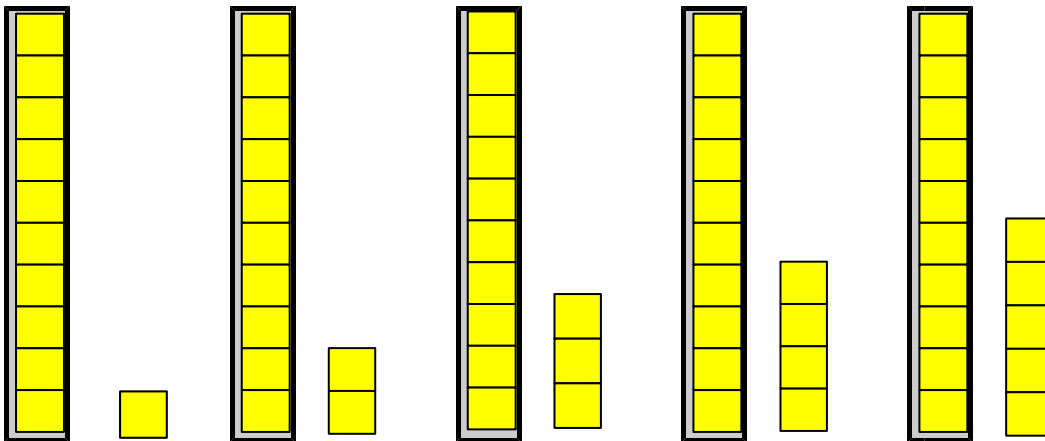
きほんのたしかめ

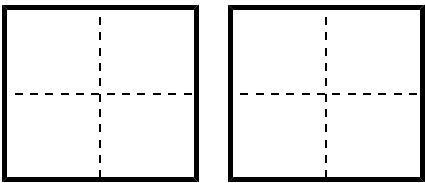
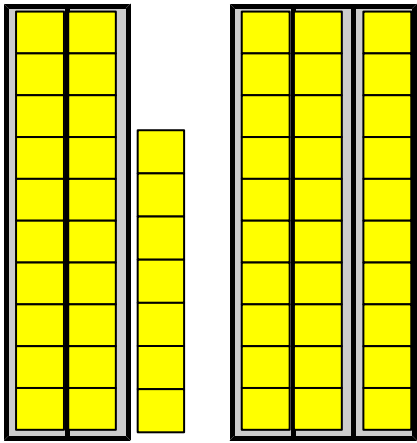
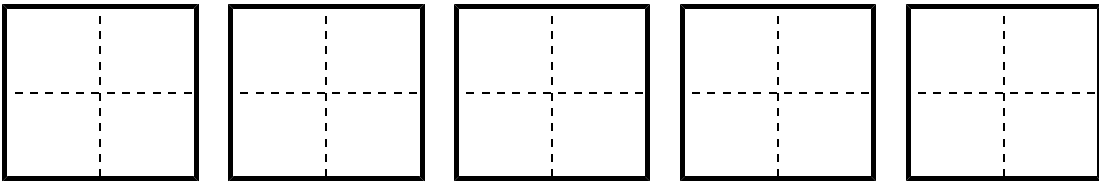
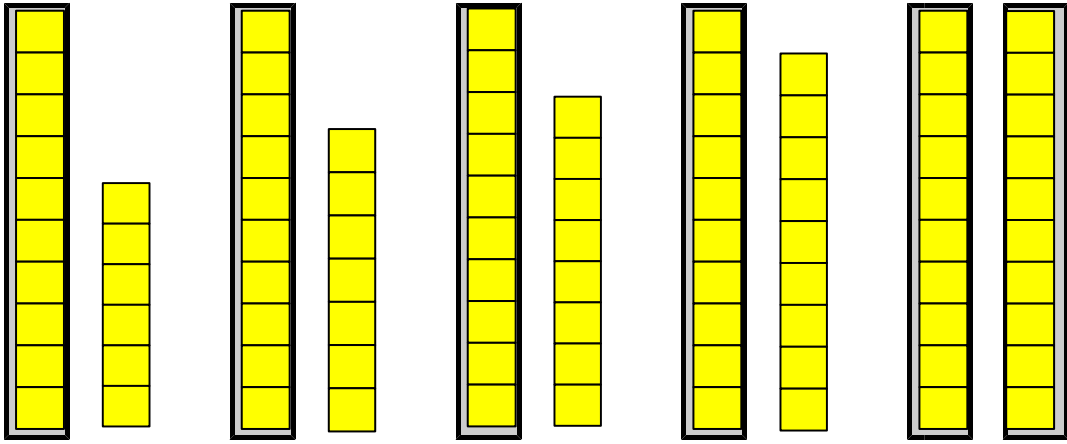
いくつあるでしょう。

1 かずを かぞえましょう。



2 かずを かきましょう。







かずを かぞえるときは
 10のまとまりをつくって
 10といくつ あるか かぞえればよい

ステップ1

③ かぞえて かずを かきましょう。





ステップ2

④ かずを かきましょう。

① 10と5で

② 10と9で

③ 14は10と

④ 17は10と

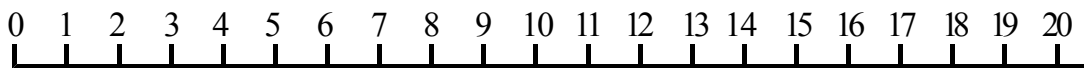
⑤ 12は と2

⑥ 18は と8


⑦ 16は10と

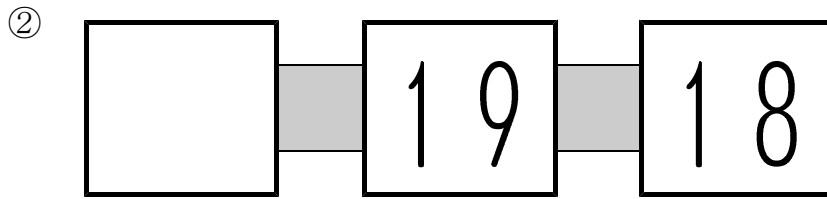
⑧ 20は10と

⑤ したの かずのせんを つかって □に あてはまる かずを かきましょう。





①





③ 13より 4 おおきい かず ④ 20より 4 ちいさい かず

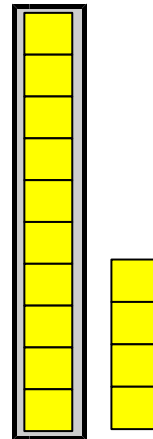


6 おおきい ほうに ○を つけましょう。



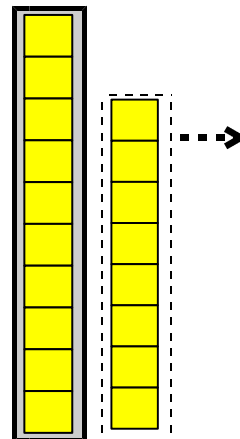
7 ① 10に 4を たした かず

$$10 + 4 = \square$$




② 18から 8を ひいた かず

$$18 - 8 = \square$$



ステップ3

- 8 ① パンが 16こ あります。
3こ もらうと なんこに なるでしょう。



しき

こたえ

こ

- ② 19この パンのうち、4こ たべると のこりは
なんこに なるでしょう。

しき

こたえ

こ

- ③ 15この パンのうち、10こ あげると のこりは
なんこに なるでしょう。

しき

こたえ

こ

こたえのページ

きほんのたしかめ

① 1 3

② 12, 13, 14, 15, 16, 17, 18, 19, 20, 27, 30

ステップ1

③ ① 12 ② 17

ステップ2

④ ① 15 ② 19 ③ 4 ④ 7 ⑤ 10 ⑥ 10
⑦ 6 ⑦ 10

⑤ ① 12 ② 20 ③ 17 ④ 16

⑥ ① 9 ② 12 ③ 14 ④ 18 ⑤ 16

⑦ ① 14 ② 10

ステップ3

⑧ ① しき $16 + 3 = 19$ こたえ 19ほん

② しき $19 - 4 = 15$ こたえ 15ほん

③ しき $15 - 10 = 5$ こたえ 5ほん