

3. いくつといくつ

いくつといくつ (5)

きほんのたしかめ

いくつといくつで 5になるかを かんがえましょう。

- 1 おはじきを 5こ とりました。
しろい おはじきは なんこ あるでしょう。

① ● ● ● ● ○ 5 は 4 と


② ● ● ● ○ ○ 5 は 3 と

③ ● ● ○ ○ ○ 5 は 2 と

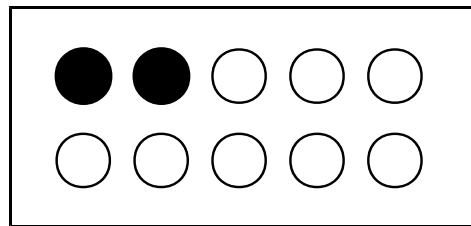
④ ● ○ ○ ○ ○ 5 は 1 と

- 2 あと いくつで 5になるでしょう。
○に いろをぬって 5にしましょう。

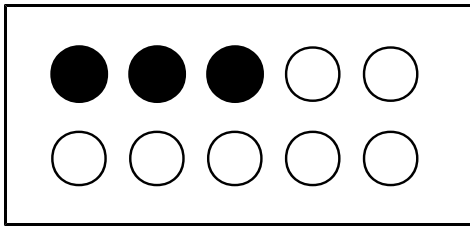
①



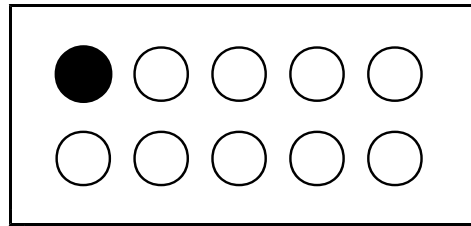
②



③



④


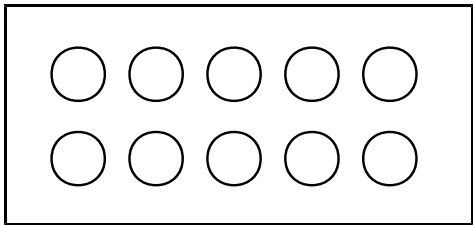



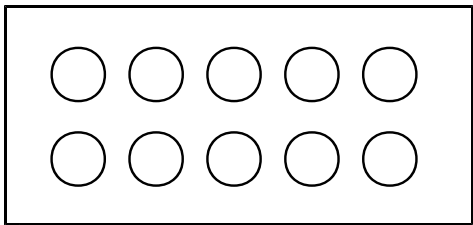
いくつといくつ (6)


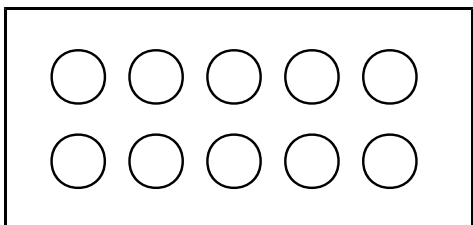
きほんのたしかめ

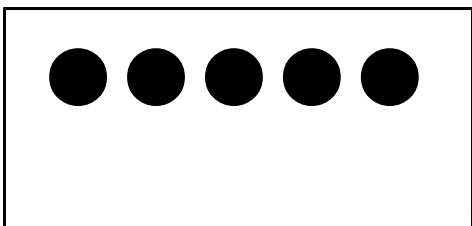
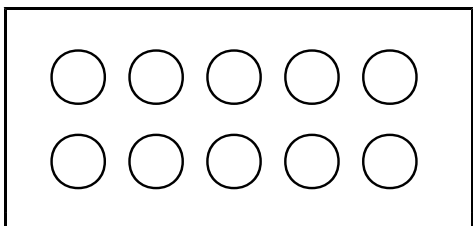
いくつといくつで 6になるかを かんがえましょう。

1 6は いくつと いくつに わけられるでしょう。
○に いろを ぬりましょう。

① 6は  と 

② 6は  と 

③ 6は  と 

④ 6は  と 

⑤ 6は  と 

2 6は いくつと いくつでしょう。

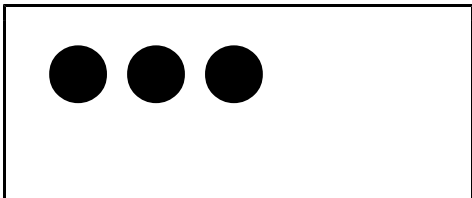
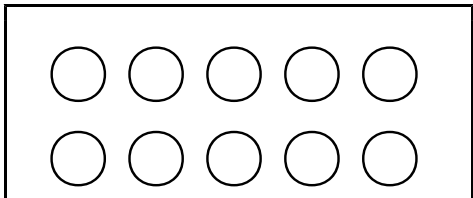

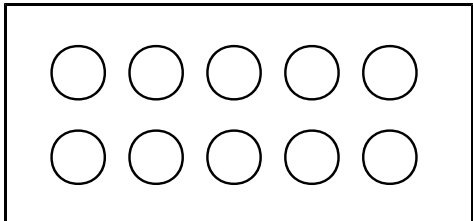

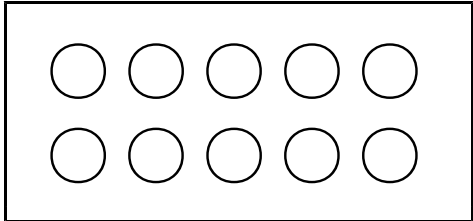



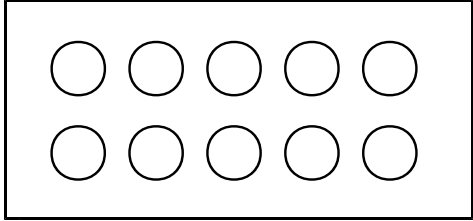


- ① 6は4と () ② 6は2と ()
③ 6は5と () ④ 6は1と ()
⑤ 6は3と ()

いくつといくつ (7)

きほんのたしかめ

いくつといくつで 7になるかを かんがえましょう。

- 1 7は いくつと いくつに わけられるでしょう。
○に いろを ぬりましょう。

①	7は		と	
②	7は		と	
③	7は		と	
④	7は		と	
⑤	7は		と	
⑥	7は		と	

いくつといくつ (8)

きほんのたしかめ

いくつといくつで 8になるかを かんがえましょう。

1 8は いくつと いくつでしょう。

① 8は と 5

② 8は と 2

③ 8は と 1

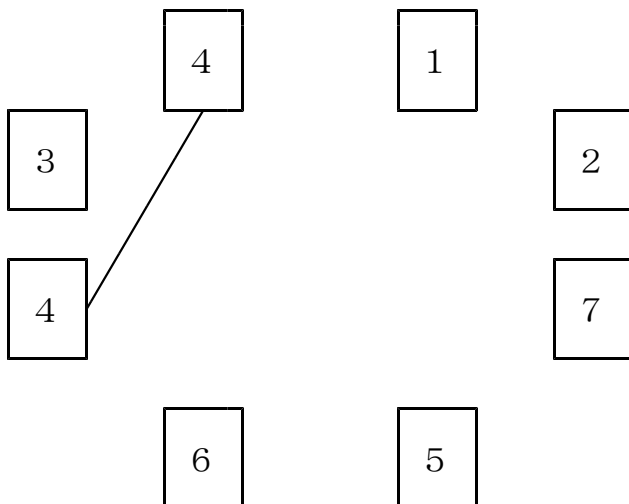
④ 8は 4 と

⑤ 8は 2 と

⑥ 8は 5 と

⑦ 8は 1 と

2 2つの かあどで 8になるように せんで むすびましょう。



いくつといくつ (9)

きほんのたしかめ

いくつといくつで 9になるかを かんがえましょう。

1 9は いくつと いくつでしょう。

① 9は 4と

② 9は 7と

③ 9は と 8

④ 9は と 7

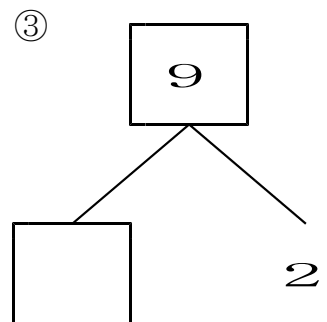
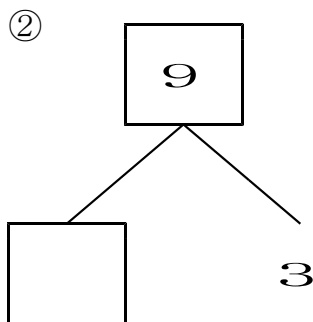
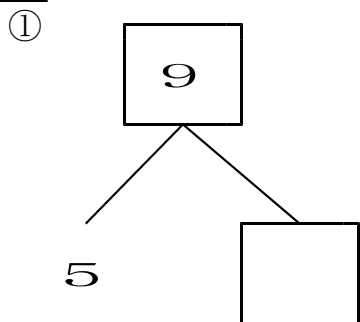
⑤ 9は と 3

⑥ 9は と 4

⑦ 9は と 5

⑧ 9は と 1

2 □にあうかずを かきましょう。



いくつといくつ (10)

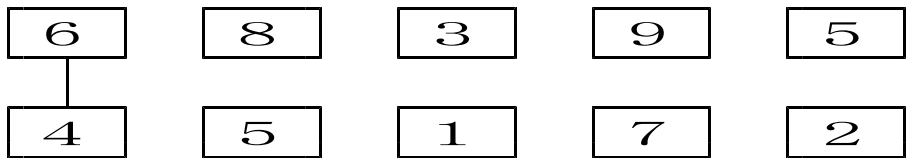
きほんのたしかめ

いくつといくつで 10になるかを かんがえましょう。

1 10は いくつと いくつでしょう。

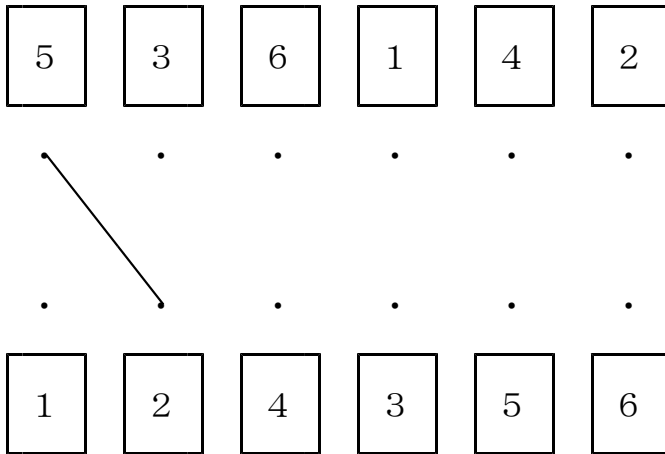
- ① ■ □□□□□□□□ □ と □
- ② ■■ □□□□□□□□ □ と □
- ③ ■■■ □□□□□□□ □ と □
- ④ ■■■■ □□□□□□ □ と □
- ⑤ ■■■■■ □□□□□ □ と □
- ⑥ ■■■■■■ □□□□ □ と □
- ⑦ ■■■■■■■ □□□ □ と □
- ⑧ ■■■■■■■■ □□ □ と □
- ⑨ ■■■■■■■■ □ □ と □

2 2まいで 10になるように せんで むすびましょう。



すてっぷ1

1 7に なるように せんで むすびましょう。



2 いくつと いくつでしょう。

- | | | | | |
|-------|----------------------|-----|----------|----------------------|
| ① 5は | <input type="text"/> | と 2 | ② 6は 4と | <input type="text"/> |
| ③ 9は | <input type="text"/> | と 5 | ④ 8は 3と | <input type="text"/> |
| ⑤ 10は | <input type="text"/> | と 8 | ⑥ 7は 4と | <input type="text"/> |
| ⑦ 9は | <input type="text"/> | と 6 | ⑧ 6は 3と | <input type="text"/> |
| ⑨ 8は | <input type="text"/> | と 2 | ⑩ 5は 1と | <input type="text"/> |
| ⑪ 10は | <input type="text"/> | と 9 | ⑫ 9は 7と | <input type="text"/> |
| ⑬ 7は | <input type="text"/> | と 5 | ⑭ 10は 8と | <input type="text"/> |
| ⑮ 4は | <input type="text"/> | と 3 | ⑯ 8は 6と | <input type="text"/> |

こたえ

1-3-1

きほんのたしかめ

1 ① 1 ② 2 ③ 3 ④ 4

2 ① あと1ついろをぬる ② あと3ついろをぬる
③ あと2ついろをぬる ④ あと4ついろをぬる

1-3-2

きほんのたしかめ

1 ① 2ついろをぬる ② 4ついろをぬる
③ 3ついろをぬる ④ 1ついろをぬる
⑤ 5ついろをぬる

2 ① 2 ② 4 ③ 1 ④ 5 ⑤ 3

1-3-3

きほんのたしかめ

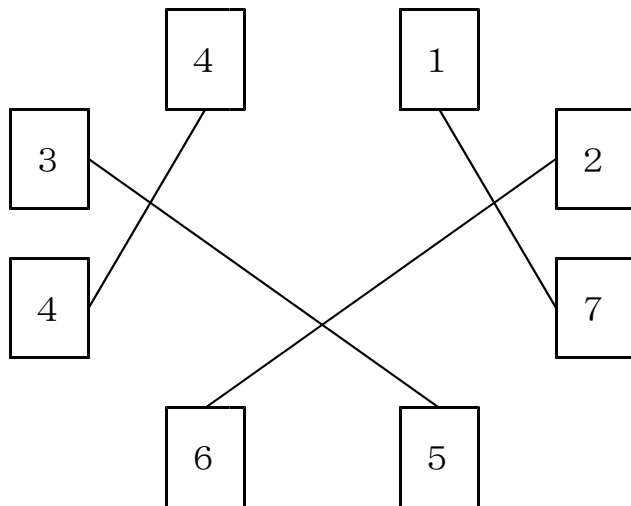
1 ① 4ついろをぬる ② 2ついろをぬる
③ 1ついろをぬる ④ 3ついろをぬる
⑤ 5ついろをぬる ⑥ 6ついろをぬる

1-3-4

きほんのたしかめ

1 ① 3 ② 6 ③ 7 ④ 4 ⑤ 6 ⑥ 3 ⑦ 7

2



1-3-5

きほんのたしかめ

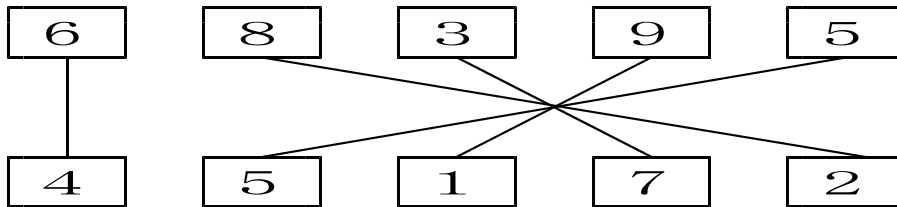
1 ① 5 ② 2 ③ 1 ④ 2 ⑤ 6 ⑥ 5 ⑦ 4 ⑧ 8
2 ① 4 ② 6 ③ 7

1-3-6

きほんのたしかめ

- 1 ① 9 ② 2, 8 ③ 3, 7 ④ 4, 6 ⑤ 5, 5
 ⑥ 6, 4 ⑦ 7, 3 ⑧ 8, 2 ⑨ 9, 1

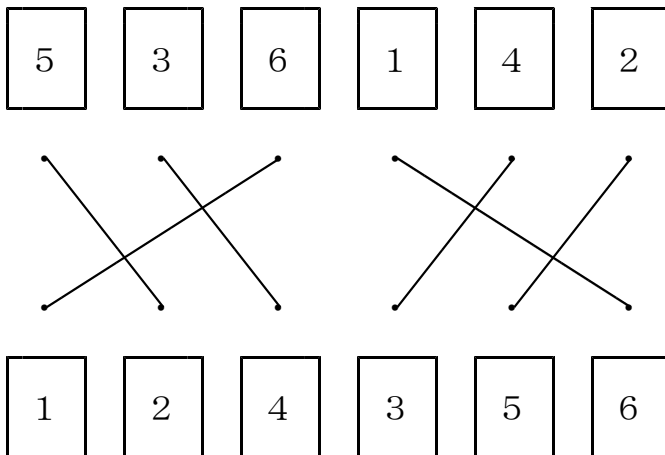
2



1-3-7

すてっぷ1

1



2

- ① 3 ② 2 ③ 4 ④ 5 ⑤ 2 ⑥ 3 ⑦ 3
 ⑧ 3 ⑨ 6 ⑩ 4 ⑪ 1 ⑫ 2 ⑬ 2 ⑭ 2
 ⑮ 1 ⑯ 2